



PREGUNTÓMETRO

CONVIVENCIA ESCOLAR 5°

Paco está triste y llora porque no encuentra a su mascota. Algunos de sus compañeros se burlan de él y le dicen que los hombres no deben llorar. ¿Es correcto lo que hacen sus compañeros? Explica por qué.

No es correcto, porque todas las personas tienen derecho a expresar sus emociones. Sus amigos en vez de burlarse deben entenderlo y brindarle su apoyo.

PREGUNTÓMETRO 5º



NIVEL

- I. Español.** ¿En qué forma aparecen los verbos en el diccionario?
En infinitivo.
- II. Matemáticas.** ¿Cómo representarías 2 horas con 45 minutos en número decimal?
2.45 h.
- III. CN.** ¿Qué sustancia es conocida como el disolvente universal?
El agua.
- IV. Geografía.** ¿A qué sector económico pertenece el turismo?
Al sector terciario.
- V. Historia.** ¿Cómo se llama la medida que adoptó el gobierno mexicano ante la crisis de 1982, que consistió en que todos los bancos pasaran a ser propiedad del país?
La nacionalización de la banca.





PREGUNTÓMETRO

CONVIVENCIA ESCOLAR 5°

Daniela está molesta con Javier porque él tomó su cuaderno sin su permiso. ¿Qué debe hacer?



Hablar con Javier para expresar sus emociones tranquilamente y decirle de manera clara y directa que no lo vuelva a hacer porque tomar las cosas sin permiso es una falta de respeto y la hace sentir mal.

PREGUNTÓMETRO 5°



NIVEL

I. Matemáticas. ¿Cuál es el resultado de:

$$\frac{1}{6} + \frac{2}{3} + \frac{3}{12} = ?$$

$$\frac{13}{12} \text{ o } 1 \frac{1}{12}$$

II. CN. ¿Cuál es el término que describe la variedad de seres vivos que existen en la naturaleza?

La biodiversidad.

III. Geografía. ¿Cómo se le denomina a la relación entre la cantidad de habitantes de un lugar y la extensión territorial que ocupan?

Densidad de población.

IV. Historia. ¿Qué presidente fundó importantes instituciones durante su gobierno, como la SEP?

Álvaro Obregón.

V. Español. Se utiliza para proporcionar datos sobre las características de un elemento dado, como las partes que lo componen, su comportamiento, sus atributos y semejanzas, etcétera.

La descripción.






PREGUNTÓMETRO

CONVIVENCIA ESCOLAR 5°

**¿Qué acciones puedes llevar a cabo para mejorar la convivencia en tu escuela?
Menciona dos.**



Ser amable y pedir las cosas por favor. Respetar los turnos al hablar. No discutir.

PREGUNTÓMETRO 5°



NIVEL

- I. **CN.** ¿Cómo se le conoce a la diversidad y cantidad de alimentos que comemos diariamente?

Dieta.

- II. **Geografía.** ¿Cómo se llama el límite entre los continentes y el fondo oceánico?

Talud.

- III. **Historia.** ¿Cuál fue el Plan en el que Porfirio Díaz exigió la no reelección de Sebastián Lerdo de Tejada y, además, le permitió asumir la presidencia de México?

Plan de Tuxtepec.

- IV. **Español.** Son textos que permiten conocer los resultados de investigaciones científicas. Están dirigidos al público en general, por lo que utilizan un lenguaje claro, objetivo y directo.

Los artículos de divulgación científica.

- V. **Matemáticas.** Se tienen 10 m de tela para confeccionar 7 vestidos del mismo tamaño, ¿cuánta tela se utilizará para cada vestido?

$\frac{10}{7}$ m o 1.428 m





PREGUNTÓMETRO

CONVIVENCIA ESCOLAR 5°

En el salón de Daniel deben escoger un jefe de grupo que los represente. ¿Cuál es una forma de elegirlo democráticamente?



Hacer una votación y nombrar a la persona que obtenga más votos.

PREGUNTÓMETRO 5°



NIVEL

- I. Geografía.** ¿Cómo se les llama a las líneas horizontales que determinan la latitud de un lugar, numerados desde 0° hasta 90° ?
Paralelos.
- II. Historia.** ¿Qué grupos políticos se disputaban el poder del gobierno mexicano a mediados del siglo XIX?
Los liberales y los conservadores.
- III. Español.** ¿Para qué sirven los mapas conceptuales?
Para organizar y representar gráficamente la información de un texto expositivo; permiten visualizar la jerarquía de la información.
- IV. Matemáticas.** ¿Cuál es el equivalente del número romano MDCCLVIII en el sistema decimal que actualmente utilizamos?
1 758
- V. CN.** ¿Qué puedes hacer para proteger el medio ambiente? Menciona tres medidas.
Reciclar la basura, mantener limpias las calles y parques, no tirar desechos en el agua.





PREGUNTÓMETRO

CONVIVENCIA ESCOLAR 5°

Cada vez que Marcela se enoja, se queda callada e ignora a todos. ¿Consideras que ella está haciendo un buen manejo de sus emociones?

No, porque quedarse callada no contribuye a expresar sus sentimientos ni a resolver la situación que la hace enojar.

PREGUNTÓMETRO 5º



NIVEL

I. Historia. ¿Cuál es el Plan en el que se estableció que México sería gobernado por una monarquía constitucional?

El Plan de Iguala.

II. Español. ¿Por qué es útil consultar varias fuentes cuando buscamos información sobre un tema?

Para corroborar datos, obtener información más completa sobre el tema y contrastarla.

III. Matemáticas. Juan se ha comido $\frac{3}{4}$ partes de su sándwich y Joel $\frac{5}{9}$ partes, ¿quién tiene menos sándwich por comer?

Juan.

IV. CN. ¿Cómo se le llama al cambio de posición de un cuerpo en un tiempo determinado?

Movimiento.

V. Geografía. Indicador que se define por la salud física de una persona, su estado psicológico, su nivel de independencia (política y económica), sus relaciones sociales y su vínculo con el ambiente.

La calidad de vida.





PREGUNTÓMETRO

CONVIVENCIA ESCOLAR 5º

Sin consultar a sus amigos, Cristina ha decidido que todos tendrán que darle \$5 a la semana y a cambio ella comprará chocolates. Luisa, Ana y Juan no están de acuerdo porque no les gustan los chocolates. ¿Qué deben hacer ante esta situación?

Decirle a Cristina que antes de tomar una decisión debe consultarlos para que puedan llegar a un acuerdo que le convenga a la mayoría.

PREGUNTÓMETRO 5º



NIVEL

- I. Español.** En un texto, ¿cómo se llaman las palabras que tienen como función señalar el tiempo en que ocurrieron los eventos descritos?
Adverbios de tiempo o nexos temporales.
- II. Matemáticas.** Joaquín repartirá \$3 450 entre sus 4 sobrinos, ¿cuánto le tocará a cada uno?
\$852.5
- III. CN.** ¿Qué pesa más, un kilo de algodón o un kilo de azúcar?
Los dos pesan lo mismo.
- IV. Geografía.** ¿Cómo se les denomina a las personas que adquieren o compran un producto?
Consumidores.
- V. Historia.** ¿Cuál es el nombre del tratado comercial que fue firmado en 1992 por México, Canadá y Estados Unidos de América?
El Tratado de Libre Comercio de América del Norte.





PREGUNTÓMETRO

CONVIVENCIA ESCOLAR 5º

José, Claudia y Alejandro están en un equipo para realizar un proyecto de Español. José termina haciendo todo el trabajo porque a Alejandro y a Claudia se les olvidó. ¿Es justa esta situación? ¿Por qué?

No es justa, porque si es un trabajo en equipo todos deben colaborar. Es injusto que una sola persona haga lo que le corresponde a los demás.

PREGUNTÓMETRO 5º



NIVEL

- I. Matemáticas.** Susana compra $\frac{1}{4}$ kilo de carne el martes y $\frac{3}{8}$ kg el viernes, ¿cuánto compro en total entre los dos días?
 $\frac{5}{8}$
- II. CN.** ¿Cuáles son los cinco reinos de los seres vivos?
Reino monera, protista, fungi, vegetal y animal.
- III. Geografía.** ¿Qué es una pirámide de población?
Es un gráfico que muestra la estructura de la población de un determinado lugar basándose en los criterios de sexo y edad.
- IV. Historia.** ¿Cómo se llamó el periodo en el que Plutarco Elías Calles mantuvo el poder del gobierno a través de sus sucesores?
Maximato.
- V. Español.** ¿Qué tipos de palabras se utilizan para describir personas, animales, objetos o situaciones?
Adjetivos y adverbios.





PREGUNTÓMETRO

CONVIVENCIA ESCOLAR 5º

Rodrigo se tropieza al entrar al salón de clases y se lastima la rodilla, sus compañeros se ríen de él. ¿Es correcto lo que hicieron? ¿Por qué?

No es correcto, porque en vez de burlarse deberían ayudarlo a sentirse mejor, y al reírse sólo están contribuyendo a que él se sienta más avergonzado.

PREGUNTÓMETRO 5°



NIVEL

- I. CN.** ¿Cuáles son los nutrimentos básicos que nuestro cuerpo necesita para mantenerse saludable?
Proteínas, carbohidratos, lípidos, vitaminas y minerales.
- II. Geografía.** ¿Qué es la plataforma continental?
Es la zona de llanuras que bordea los continentes.
- III. Historia.** ¿Cuál es la etapa de la historia de México que se caracterizó por la permanencia de Porfirio Díaz en el poder?
El Porfiriato.
- IV. Español.** En un artículo de divulgación, ¿qué contenido se debe desarrollar en el apartado de discusión?
Se debe presentar un análisis de los resultados de la investigación, así como concluir si se alcanzaron los objetivos y si se respondió a la pregunta de investigación.
- V. Matemáticas.** Por 15 litros de gasolina se paga \$203.55, ¿cuál es el precio de cada litro?
\$13.57





PREGUNTÓMETRO

CONVIVENCIA ESCOLAR 5º

Mireya quiere que sus compañeros piensen igual que ella y que tengan sus mismos gustos, cuando eso no pasa, ella se enoja y se siente ofendida. ¿Consideras que Mireya está actuando correctamente?

No, porque ella debe aprender a ser tolerante y entender que las diferencias de opinión se deben respetar. El hecho de que otros tengan gustos diferentes a los suyos no quiere decir que estén en su contra, o que sean mejores o peores.

PREGUNTÓMETRO 5°



NIVEL

- I. Geografía.** ¿Qué nombre reciben las líneas imaginarias que se extienden verticalmente de un polo a otro, enumeradas de 0° a 180° ?
Meridianos.
- II. Historia.** A mediados del siglo XIX, ¿qué forma de gobierno proponía el grupo político conservador?
Monárquica.
- III. Español.** ¿Cómo se jerarquiza la información en un texto?
Se parte de una idea principal que permite desarrollar el tema; esta idea principal se refuerza con otras ideas que proporcionan ejemplos o explicaciones complementarias o alternas.
- IV. Matemáticas.** En la sucesión numérica **11, 18, 25, 32, 39, ...**, ¿cuál es el número que sigue?
46
- V. CN.** ¿Qué consecuencias tiene en el ecosistema la producción de bienes en las fábricas?
La reducción de los recursos naturales y la disminución de especies animales y vegetales.






PREGUNTÓMETRO

CONVIVENCIA ESCOLAR 5º

Al salir de la escuela te encuentras una cartera tirada, con dinero e identificaciones personales de su dueño. ¿Qué debes hacer?



Llevarla a la Dirección para intentar localizar a su dueño y entregársela.

PREGUNTÓMETRO 5°



NIVEL

- I. Historia.** ¿Qué tipo de gobierno se implementó tras la Independencia de México?
El gobierno Monárquico.
- II. Español.** ¿Qué función tiene la elaboración de preguntas al elegir un tema para investigar?
Definir y delimitar el tema.
- III. Matemáticas.** ¿Cuánto es $2.78 - 1.906$?
0.874
- IV. CN.** ¿Cómo se le denomina al valor de la distancia recorrida por un cuerpo entre el tiempo que emplea para ello?
Rapidez.
- V. Geografía.** ¿Por qué los problemas ambientales disminuyen la calidad de vida?
Porque, además de que desequilibran el ambiente, ocasionan enfermedades en las personas.






PREGUNTÓMETRO

CONVIVENCIA ESCOLAR 5º

Priscila cree que todas las niñas son débiles y por eso no deben jugar futbol. ¿Qué piensas de esto?



Que su opinión se basa en prejuicios y estereotipos de género. Porque las mujeres también pueden jugar futbol si así lo desean.

PREGUNTÓMETRO 5º



NIVEL

- I. Español.** Menciona tres adverbios de tiempo.
Luego, más tarde, al final.
- II. Matemáticas.** ¿Cuál es el resultado de dividir 588 entre 5?
117.6
- III. CN.** ¿Cuáles son dos objetos que pueden conducir el calor?
Una cuchara de metal y un anillo de oro.
- IV. Geografía.** ¿Qué es la industria manufacturera?
Es una actividad económica del sector secundario que se encarga de transformar una amplia gama de materias primas en artículos destinados al consumo.
- V. Historia.** Menciona algunos conflictos sociales que se originan como consecuencia de la sobrepoblación en las ciudades.
La falta de empleo, la contaminación, la sobreexplotación de recursos naturales y la pobreza.





PREGUNTÓMETRO

CONVIVENCIA ESCOLAR 5º

¿Qué es el *bullying* y cómo afecta a las personas?



El *bullying* es cuando uno o varios compañeros molestan o agreden constantemente a otros. Esto afecta a la víctima porque daña su integridad física o psicológica.

PREGUNTÓMETRO 5º



NIVEL

- I. Matemáticas.** Si divido el número 1 000 entre 20, ¿de cuántas cifras sería el cociente?
2 cifras.
- II. CN.** ¿Cómo se le llama al conjunto de organismos que viven en un área común y establecen relaciones entre sí?
Ecosistema.
- III. Geografía.** Menciona tres de las ciudades más pobladas del continente Americano.
Buenos Aires, Río de Janeiro, Sao Paulo, Ciudad de México, Los Ángeles y Nueva York.
- IV. Historia.** ¿Cuál es el nombre del levantamiento armado contra la Iglesia católica, durante el mandato de Plutarco Elías Calles?
La Guerra Cristera.
- V. Español.** El siguiente texto: Elvira es una mujer alta, delgada de cabello largo, negro y lacio; siempre trata con amabilidad a las personas y es muy disciplinado en su trabajo, es un ejemplo de:
Descripción de una persona.





PREGUNTÓMETRO

CONVIVENCIA ESCOLAR 5°

¿Qué significa la frase “El respeto al derecho ajeno es la paz”?



Que la convivencia pacífica se basa en respetar los derechos de los demás.

PREGUNTÓMETRO 5º



NIVEL

- I. CN.** ¿Qué función tienen los carbohidratos y en qué grupo alimenticio podemos encontrarlos?
Proporcionan energía y se encuentran en los cereales, tubérculos y frutas.
- II. Geografía.** El movimiento de las placas tectónicas pueden suceder de tres formas, ¿cuáles son?
De contacto, de deslizamiento y de separación.
- III. Historia.** ¿Cuáles fueron las tres principales actividades económicas durante el Porfiriato?
La minería, la electricidad, el petróleo, la construcción del ferrocarril, la producción de hilados y tejidos y las comunicaciones.
- IV. Español.** ¿Qué diferencia hay entre un argumento y una opinión?
El argumento se apoya en datos confiables y certeros; mientras que la opinión es un juicio subjetivo sobre la certeza de algo.
- V. Matemáticas.** ¿Cuál es el número que sigue en esta sucesión numerica? **157, 143, 129, 115,**

_____, ...

101





PREGUNTÓMETRO

CONVIVENCIA ESCOLAR 5º

Enrique no está de acuerdo con la organización de las tareas de grupo que propuso Martín. Enrique decide hablar con Martín para expresar su inconformidad y proponer una nueva forma de trabajo. ¿Es correcto lo que hizo Enrique? ¿Por qué?

Sí, porque en vez de alterarse o quedarse callado buscó solucionar el conflicto mediante el diálogo.

PREGUNTÓMETRO 5°



NIVEL

- I. Geografía.** En Geografía, ¿cómo se le llama a la distancia vertical de un lugar sobre la Tierra, tomando como referencia el nivel del mar?
Altitud.
- II. Historia.** ¿A mediados del siglo XIX qué grupo político proponía que el país debía ser gobernado por un ciudadano mexicano?
Los liberales.
- III. Español.** ¿Qué temas se abordan principalmente en los poemas?
Los sentimientos y ciertos aspectos de la sociedad y la naturaleza.
- IV. Matemáticas.** ¿Cuál es la operación inversa de la multiplicación?
La división.
- V. CN.** ¿Cómo se puede recuperar un área natural afectada por la tala de árboles?
A través de la reforestación.

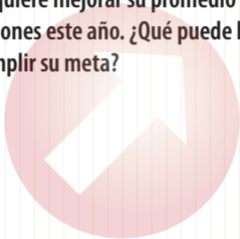




PREGUNTÓMETRO

CONVIVENCIA ESCOLAR 5°

Gabriel quiere mejorar su promedio de calificaciones este año. ¿Qué puede hacer para cumplir su meta?



Cumplir con sus tareas, poner atención en clase y estudiar regularmente.

PREGUNTÓMETRO 5°



NIVEL

- I. Historia.** ¿Quién fue el primer gobernante de México, que adoptó el Imperio como forma de gobierno?
Agustín de Iturbide.
- II. Español.** Identifica las palabras clave de la siguiente pregunta: ¿Qué relación tienen las lenguas indígenas de México con el español mexicano?
Relación, lenguas indígenas de México, español mexicano.
- III. Matemáticas.** Myriam está entrenando para una competencia, el viernes corrió 1.5 km, el sábado 3.08 km y 2.409 km el domingo. ¿Cuántos kilómetros corrió en total?
6.989 kilómetros.
- IV. CN.** Es el conjunto de todas las posiciones por las que pasa un cuerpo durante un movimiento.
Trayectoria.
- V. Geografía.** ¿A qué se refiere el nivel de desempeño ambiental de cada país?
A la medida en que han sido efectivas las acciones de cada país para proteger el ambiente.





PREGUNTÓMETRO

CONVIVENCIA ESCOLAR 5º

Paola y su equipo están exponiendo un tema en la clase de Historia, sin embargo, Leo los interrumpe constantemente y no espera su turno para hablar. ¿Es correcto lo que hace Leo?, ¿cómo afecta su comportamiento a los demás?

No es correcto. Afecta a los demás porque no los deja expresarse y no espera el momento que cada quien debe tener para hablar, por lo tanto está cometiendo una falta de respeto.

PREGUNTÓMETRO 5º



NIVEL

I. Español. ¿Qué característica tienen en común las fábulas y los refranes?

Que ambos tienen la intención de dar una enseñanza o consejo.

II. Matemáticas. Tengo 30 m^2 de madera para hacer 20 mesas sin que sobre material. Si cada mesa se hizo con la misma cantidad de madera, ¿cuál fue la cantidad utilizada en cada mesa?

1.5 m^2

III. CN. Menciona dos materiales aislantes del calor.

El plástico y la madera.

IV. Geografía. En economía, es el valor monetario final de bienes y servicios producidos por un país en un año, dividido entre el total de su población.

Producto Interno Bruto per cápita.

V. Historia. Están conformadas por grupos de personas que tienen la finalidad de promover la defensa de causas sociales.

Organizaciones No Gubernamentales (ONG)
y Organizaciones de la Sociedad Civil (OSC).





PREGUNTÓMETRO

CONVIVENCIA ESCOLAR 5°

Marco está muy enojado con Ernesto porque le dice un apodo que no le gusta. ¿Cómo pueden resolver este conflicto de manera pacífica?

Mediante el diálogo. Marco debe decirle a Ernesto que no le gusta que lo llamen de ese modo y explicarle que eso es importante para llevar una relación cordial.

PREGUNTÓMETRO 5º



NIVEL

- I. Matemáticas.** Juan Pablo pagó \$980 por 35 kilos de manzana. ¿Cuánto cuesta cada kilo de manzana?
\$28
- II. CN.** ¿Cuál es el país megadiverso que cuenta con 19 065 especies de plantas con flores, 1 096 de aves y 555 de mamíferos?
México.
- III. Geografía.** ¿Cuáles son tres de los países más poblados del continente Asiático?
China, India, Indonesia, Pakistán, Bangladesh, Japón.
- IV. Historia.** En 1929 se creó el Partido Nacional Revolucionario (PNR). ¿Cuáles fueron los nombres que adoptó después?
En 1938 cambió a Partido de la Revolución Mexicana (PRM) y desde 1946 hasta la actualidad su nombre es Partido Revolucionario Institucional (PRI).
- V. Español.** Menciona tres adjetivos que podemos utilizar para describir físicamente a una persona.
Alto, moreno, delgado.





PREGUNTÓMETRO

CONVIVENCIA ESCOLAR 5°

¿Cuáles son algunas formas de ser honesto?



Decir siempre la verdad. Cumplir lo que prometo.
Expresar lo que siento. Tomar sólo lo que me pertenece.

PREGUNTÓMETRO 5°



NIVEL

I. CN. Según el Plato del Bien Comer, ¿cuáles son los tres grupos de alimentos que necesitas consumir para llevar una dieta saludable?

Verduras y frutas; leguminosas y alimentos de origen animal; cereales.

II. Geografía. Es el fenómeno ocasionado por movimientos tectónicos en el que se desplaza una gran cantidad de agua de la orilla de una playa hacia el interior del mar, produciendo una gran ola.

Tsunami.

III. Historia. Durante el Porfiriato, ¿cuáles fueron los sectores de la sociedad mexicana más desfavorecidos?

Campeños, obreros, artesanos y jornaleros.

IV. Español. Se utiliza para presentar la información tal y como la dijo el autor. Para escribirla utilizamos comillas.

La cita textual o directa.

V. Matemáticas. ¿Cuál es el número que ocupa la posición número 10 en la siguiente sucesión? **2, 4, 8,**

16, 32, ...

1 024





PREGUNTÓMETRO

CONVIVENCIA ESCOLAR 5°

¿Qué es el respeto?



El respeto es el valor que hace referencia a tratar bien a las personas y tener consideración con ellas.

PREGUNTÓMETRO 5°



NIVEL

- I. **Geografía.** ¿Qué nombre recibe el meridiano 0° ?
Meridiano de Greenwich.
- II. **Historia.** ¿Cómo se autonóbró el presidente Antonio López de Santa Anna?
Alteza Serenísima.
- III. **Español.** ¿Cuándo usamos el sentido literal?
Cuando queremos decir las cosas de manera clara, sin dar lugar a otros significados o interpretaciones.
- IV. **Matemáticas.** Juan va a la frutería y compra 2 kg de fresas a \$38 el kg, 3.5 kg de papaya a \$15 el kg y 4.3 kg de limón a \$14 el kg. ¿Cuánto fue el total de su compra?
\$188.7
- V. **CN.** ¿Cómo se le denomina a los cuerpos (objetos) que se mueven alrededor de otro en el espacio?
Satélites.

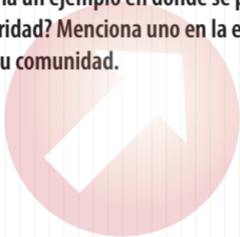




PREGUNTÓMETRO

CONVIVENCIA ESCOLAR 5°

¿Cuál sería un ejemplo en donde se practica la solidaridad? Menciona uno en la escuela y otro en tu comunidad.



En la escuela: ayudar a los compañeros a mantener limpio el salón. En la comunidad: ayudar a un adulto mayor a cruzar la calle.

PREGUNTÓMETRO 5º



NIVEL

- I. **Historia.** ¿Cuál fue la primera carta magna que estableció a México como una república federal?
La Constitución de 1824.
- II. **Español.** Además de las palabras clave de un tema dado, ¿qué otro elemento puede guiarte en la búsqueda de información?
El índice de los distintos materiales en los que se realiza la búsqueda.
- III. **Matemáticas.** Alma repartió 58 dulces entre sus 6 nietos en partes iguales. ¿Cuántos les toca a cada uno y cuántos dulces sobran?
9 dulces por nieto y sobran 4 dulces.
- IV. **CN.** ¿Qué tipo de ondas se producen al lanzar una piedra al agua?
Transversales.
- V. **Geografía.** ¿Qué nombre recibe la destrucción de la superficie vegetal de las selvas y los bosques, generalmente causada por la tala de árboles?
Deforestación.





PREGUNTÓMETRO

CONVIVENCIA ESCOLAR 5°

Mientras jugaban en el patio, Julieta empujó a Mónica sin querer, Mónica se cayó y comenzó a llorar. ¿Cómo pueden resolver este conflicto pacíficamente?

Julieta debe disculparse con Mónica, explicarle que fue un accidente y ofrecerle su ayuda.

PREGUNTÓMETRO 5º



NIVEL

- I. Español.** Son frases de origen antiguo y de uso cotidiano, cuya intención es dar un consejo o una enseñanza.
Los refranes.
- II. Matemáticas.** ¿Cuál es el área de un romboide que mide 15 m de base y 8 m de altura?
120 m²
- III. CN.** ¿Cómo se le denomina al proceso de separación de mezclas en el que se utiliza un imán para separar los componentes?
Imantación.
- IV. Geografía.** Menciona tres elementos que conforman el sistema de rutas que hace posible el comercio interno y externo de un país.
Las carreteras, aeropuertos, puertos, mares, ríos, medios de comunicación y de transporte.
- V. Historia.** ¿Cuál es el nombre de la institución que fue creada en 1990 con la finalidad de dar transparencia y legalidad a los procesos electorales?
Instituto Federal Electoral (IFE), actualmente llamado INE, Instituto Nacional Electoral.





PREGUNTÓMETRO

CONVIVENCIA ESCOLAR 5º

Xóchitl es nueva en la escuela, ella viene de una comunidad indígena y habla náhuatl. Algunos de sus compañeros se burlan de ella por su tono de piel y su forma de hablar. ¿Por qué es incorrecto lo que hacen sus compañeros?

Porque es una falta de respeto que demuestra actitudes racistas hacia ella. Como mexicanos debemos valorar nuestras raíces y aprender a convivir de manera justa y armónica.

PREGUNTÓMETRO 5°



NIVEL

- I. Matemáticas.** ¿Cuánto es 90 entre 18?
5
- II. CN.** ¿Cuáles son algunos ecosistemas que existen en México?
Bosque de coníferas, bosque tropical, desierto, pastizal, humedal y marino.
- III. Geografía.** ¿Cuáles son algunas de las religiones más practicadas en el mundo?
Cristianismo, islamismo, hinduismo, budismo.
- IV. Historia.** ¿Con qué nombre se le conoce al periodo comprendido entre los años 1940 y 1970, donde la economía mexicana mantuvo un crecimiento y estabilidad?
Milagro mexicano.
- V. Español.** ¿Qué adjetivos utilizarías para describir las características de tu personalidad? Menciona tres.
Amigable, sociable, responsable.





PREGUNTÓMETRO

CONVIVENCIA ESCOLAR 5º

Cuando Paty no está de acuerdo con Salvador, ella le grita y lo agrede.

¿Es correcto lo que hace Paty?, ¿cuál es la mejor manera de actuar ante esta situación?

No es correcto, al reaccionar así ella está siendo irrespetuosa. Lo que debe hacer es encontrar una solución mediante el diálogo, sin violencia verbal ni física.

PREGUNTÓMETRO 5º



NIVEL

I. CN. ¿Cuáles son algunas enfermedades y padecimientos relacionados con una alimentación incorrecta?

Bulimia, anorexia, obesidad, desnutrición.

II. Geografía. ¿Cuáles son los tres volcanes activos más conocidos de México?

El Nevado de Colima, El Popocatepetl y El Pico de Orizaba.

III. Historia. ¿Qué medios de transporte fueron introducidos durante el Porfiriato?

El automóvil, el tranvía eléctrico y la bicicleta.

IV. Español. Menciona un estereotipo recurrente en los personajes de los cuentos infantiles.

La princesa buena o la bruja mala.

V. Matemáticas. ¿Cuál es el resultado de multiplicar 2.03×8 ?

16.24





PREGUNTÓMETRO

CONVIVENCIA ESCOLAR 5º

¿Cuáles son algunas acciones que ayudan a combatir la corrupción?



No dar dinero o intercambiar favores para obtener un beneficio (no sobornar). Pagar impuestos.
Cumplir con la ley.

PREGUNTÓMETRO 5°



NIVEL

I. Geografía. ¿En qué unidad de medida se expresan la latitud y la longitud?

En grados.

II. Historia. ¿Cuál es el nombre del Plan con el que se hizo un llamado a desconocer el gobierno de Santa Anna y enfrentarlo mediante un levantamiento armado?

Plan de Ayutla.

III. Español. Se usa en los poemas para dar un significado distinto a las palabras y provocar emociones.

El sentido figurado.

IV. Matemáticas. La diferencia de edad entre Rafael y su papá es de 28 años. Si Rafael tiene 12 años, ¿cuál es la suma de la edad de Rafael y su papá?

52 años.

V. CN. ¿Cuáles son algunas funciones de los satélites artificiales?

Obtener información y transmitirla; contribuir a la investigación del planeta y del Sistema Solar; la radiodifusión y la radionavegación.





PREGUNTÓMETRO

CONVIVENCIA ESCOLAR 5°

Joaquín usa silla de ruedas porque no puede caminar. Él va a pasar a 3° de primaria y el único acceso para llegar a ese salón es por las escaleras. ¿Qué pueden hacer en la escuela para facilitar el acceso de Joaquín a su salón?

Construir una rampa o destinar para 3° un salón cuyo acceso no tenga escaleras.

PREGUNTÓMETRO 5°



NIVEL

- I. **Historia.** ¿Quién fue el primer presidente de la República mexicana en 1824?
Guadalupe Victoria.
- II. **Español.** ¿Cuáles son algunas características de un texto expositivo?
Presentan una visión neutra y objetiva sobre un tema.
- III. **Matemáticas.** Ana compra $\frac{3}{4}$ kg de manzanas y le regala $\frac{2}{5}$ kg de manzanas a Eduardo. ¿Cuántos kilogramos le quedan?
 $\frac{7}{20}$ kg de manzanas.
- IV. **CN.** De acuerdo con la OMS, ¿cuál es el límite superior deseable de la intensidad del sonido para la salud humana?
85 dB.
- V. **Geografía.** ¿Qué organismo se encarga de analizar la información científica, técnica y socioeconómica sobre el cambio climático para crear acciones internacionales adecuadas para afrontarlo?
Panel Intergubernamental del Cambio Climático.





PREGUNTÓMETRO

CONVIVENCIA ESCOLAR 5°

La educación es uno de tus derechos. ¿Cuál es tu obligación que corresponde a ese derecho?



Estudiar, hacer la tarea y llegar a tiempo a la escuela.

PREGUNTÓMETRO 5º



NIVEL

- I. **Español.** Son narraciones que expresan la sabiduría popular e incluyen una moraleja.
Las fábulas.
- II. **Matemáticas.** ¿Cuántos centímetros cuadrados de papel se necesitan para hacer un papalote en forma de rombo donde la vara mayor mida 50 cm y la menor 22 cm?
550 cm²
- III. **CN.** ¿Qué tipo de mezcla es una compuesta por agua y aceite?
Heterogénea.
- IV. **Geografía.** Verdadero o falso: ¿El comercio exterior hace posible que los países obtengan los recursos que no poseen para cubrir las necesidades de su población?
Verdadero.
- V. **Historia.** Es el grupo que está conformado principalmente por indígenas de Chiapas y que se levantó en armas para exigir el reconocimiento y el respeto de sus derechos.
Ejército Zapatista de Liberación Nacional (EZLN).

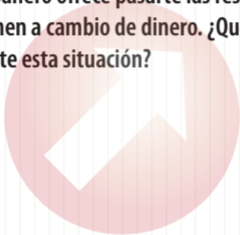




PREGUNTÓMETRO

CONVIVENCIA ESCOLAR 5º

Un compañero ofrece pasarte las respuestas del examen a cambio de dinero. ¿Qué debes hacer ante esta situación?



Decirle que no y explicarle que está cometiendo un acto de corrupción y deshonestidad al que tú no piensas contribuir.

PREGUNTÓMETRO 5°



NIVEL

- I. Matemáticas.** ¿Qué nombre reciben las rectas que al cortarse forman un ángulo de 90° ?
Rectas perpendiculares.
- II. CN.** ¿Qué ecosistema tiene temperaturas de 17 a 30°C , frutas como mango, papaya, mamey y animales como el jaguar, el tapir y el venado?
El Bosque tropical.
- III. Geografía.** ¿Cuál es el idioma oficial de Brasil, Angola y Mozambique?
Portugués.
- IV. Historia.** ¿Qué acontecimiento, durante el gobierno de Lázaro Cárdenas, dio paso al surgimiento de Petróleos Mexicanos (PEMEX)?
La Expropiación Petrolera.
- V. Español.** Insultar, poner apodos, burlarse, golpear o rechazar a otras personas, son acciones que fomentan:
El *bullying* o violencia escolar.





PREGUNTÓMETRO

CONVIVENCIA ESCOLAR 5º

Édgar le dice a Miguel que si quiere seguir siendo su amigo tendrá que acompañarlo con su hermano a consumir bebidas alcohólicas. ¿Qué debe hacer Miguel?

Rechazar la invitación de Édgar y decirle que eso no es saludable y que un buen amigo no obliga ni chantajea a los demás.

PREGUNTÓMETRO 5º



NIVEL

I. CN. ¿Cuáles son algunas medidas para prevenir situaciones de riesgo cotidianas?

Tener precaución al cruzar la calle, no jugar con herramientas peligrosas como cuchillos o tijeras, rechazar sustancias dañinas y desconocidas, y evitar situaciones violentas.

II. Geografía. ¿Cuál es el agente erosivo más común en las zonas desérticas?

El viento.

III. Historia. ¿Quién asumió la presidencia tras derrotar a Porfirio Díaz mediante el Plan de San Luis?

Francisco I. Madero.

IV. Español. ¿Cómo se dividen las obras de teatro?

En actos, y éstos se dividen en escenas.

V. Matemáticas. Si cada bolsa de pasta para cocinar cuesta \$4.80, al comprar 5 bolsas se pagó con un billete de \$50. ¿Cuánto sobró?

\$26





PREGUNTÓMETRO

CONVIVENCIA ESCOLAR 5°

Describe una situación en la que se demuestra empatía.



Marisol ve que Julián está muy serio y con una expresión de tristeza, entonces ella se acerca para platicar con él, le da un abrazo, le dice que entiende su situación y le ofrece su apoyo.

PREGUNTÓMETRO 5°



NIVEL

- I. **Geografía.** En un mapa, ¿qué país se encuentra ubicado en las coordenadas 20° Norte, 100° Oeste?
México.
- II. **Historia.** ¿Qué presidente de México dio inicio al gobierno liberal?
Ignacio Comonfort.
- III. **Español.** ¿Cómo se llaman las líneas de los poemas?
Versos.
- IV. **Matemáticas.** ¿Cuál es el perímetro de un rectángulo cuya base mide 11 cm y su altura 5 cm?
32 cm
- V. **CN.** ¿Por qué es necesario que participes en el cuidado de los ecosistemas de tu región?
Porque son importantes para mantener el equilibrio ambiental del planeta.





PREGUNTÓMETRO

CONVIVENCIA ESCOLAR 5º

¿Cuál es una regla del salón? ¿Por qué es importante cumplirla?



Levantar la mano cuando quiero hablar o participar. Es importante porque de esa manera se mejora la comunicación y todos podemos expresar nuestras ideas sin ser interrumpidos.

PREGUNTÓMETRO 5º



NIVEL

- I. Historia.** ¿Durante el gobierno de qué presidente se perdió el territorio de Texas?
Antonio López de Santa Anna.
- II. Español.** ¿De qué manera las leyendas se transmiten de una generación a otra?
Oralmente.
- III. Matemáticas.** ¿Cuántas caras tiene un cubo?
6 caras.
- IV. CN.** Según la OMS, ¿en qué rango de intensidad el sonido puede ocasionar daños físicos al oído?
130-140 dB.
- V. Geografía.** ¿Qué nombre recibe el fenómeno mediante el cual los gases de la atmósfera terrestre retienen parte de la energía de la superficie después de haber sido calentada por el Sol?
Efecto invernadero.





PREGUNTÓMETRO

CONVIVENCIA ESCOLAR 5°

Elena cree que Emiliano no es buena persona porque practica una religión diferente a la suya. ¿Consideras que la actitud de Elena es correcta? ¿Por qué?

No, Elena no debe juzgar a una persona basándose solamente en la religión que practica. Eso sería una forma de discriminación basada en prejuicios.

PREGUNTÓMETRO 5º



NIVEL

- I. Español.** La frase **más sabe el diablo por viejo que por diablo** es un ejemplo de:
Refrán.
- II. Matemáticas.** Si 4 pantalones cuestan \$2 400, ¿cuánto pagaré si compro 7 pantalones del mismo precio?
4 200 pesos.
- III. CN.** ¿Cuál es el método que sirve para separar sólidos de líquidos al pasar la mezcla por una coladera o papel especial para que las partículas sólidas queden atrapadas y el líquido pase?
Filtración.
- IV. Geografía.** ¿A qué ámbito pertenecen los productos del sector primario más importados a nivel mundial?
A la agricultura.
- V. Historia.** ¿Qué candidato del PRI fue asesinado durante su campaña en el año de 1994?
Luis Donaldo Colosio.





PREGUNTÓMETRO

CONVIVENCIA ESCOLAR 5°

Cuando Roberto quiere algo y sus padres no se lo dan, él llora y grita. ¿Consideras que Roberto está manejando sus emociones adecuadamente? Justifica tu respuesta.

No, en vez de portarse así debe aprender a controlar sus emociones y expresar su enojo de otra forma, por ejemplo, hablando con sus padres y explicándoles cómo se siente.

PREGUNTÓMETRO 5º



NIVEL

- I. Matemáticas.** ¿Cómo se les llama a las rectas que estando en un mismo plano jamás se cortan?
Rectas paralelas.
- II. CN.** ¿Qué ecosistema presenta temperaturas extremas en el día y la noche, y una fauna predominante de víboras y lagartijas?
El desierto.
- III. Geografía.** ¿Cuál es el componente básico para establecer la comunicación entre las personas y que forma parte de la cultura de un país?
El lenguaje.
- IV. Historia.** Durante el cardenismo, ¿cuál fue la acción que consistió en el reparto de tierras e industrialización del campo a favor de los campesinos?
La Reforma Agraria.
- V. Español.** ¿Qué es un tríptico?
Es un folleto que permite organizar información sobre un tema dado, para comunicarla de manera clara y concreta; suele incluir textos y gráficos de apoyo.





PREGUNTÓMETRO

CONVIVENCIA ESCOLAR 5°

Menciona una actividad para promover la equidad de género en la escuela.



Distribuir las actividades de forma que tanto los niños como las niñas puedan participar en las tareas para mantener el orden y la limpieza en el salón, así como en las actividades recreativas.

PREGUNTÓMETRO 5°



NIVEL

- I. CN.** ¿Qué problemas de salud provoca el consumo inmoderado de alcohol y tabaco?
Fallas en órganos como el corazón, hígado, riñones, estómago; enfermedades como cáncer o bronquitis.
- II. Geografía.** ¿Debido a qué proceso natural se genera agua en el planeta?
Al ciclo del agua o ciclo hídrico.
- III. Historia.** En febrero de 1913, un grupo de militares apoyados por el embajador de Estados Unidos de América se revelaron ante el gobierno en la ciudad de México, ¿cómo se le llamó a este episodio?
La Decena Trágica.
- IV. Español.** ¿Qué estructura debe tener un reporte de encuesta?
Introducción, desarrollo y conclusión.
- V. Matemáticas.** ¿Cómo se le llama a la mayor de las cuerdas de un círculo y que también es un eje de simetría del mismo?
Diámetro.





PREGUNTÓMETRO

CONVIVENCIA ESCOLAR 5º

¿Por qué el diálogo es la mejor manera de resolver conflictos?



Porque mediante éste es posible expresar nuestras emociones y sentimientos de manera clara y ordenada para que el otro pueda entender mejor nuestra situación y juntos logremos llegar a un acuerdo que beneficie a ambos sin lastimarnos.

PREGUNTÓMETRO 5º



NIVEL

- I. Geografía.** ¿En qué continente se encuentra Nueva Zelanda?
En Oceanía.
- II. Historia.** ¿Con qué otro nombre se le conoce a la Guerra de los Tres Años?
La Guerra de Reforma.
- III. Español.** Describe las características de un poema que tiene rima.
El poema rima cuando la última palabra en dos o más versos termina con sílabas que tienen el mismo sonido o uno muy parecido.
- IV. Matemáticas.** ¿Cuál es el perímetro de un hexágono cuyo lado mide 3.5 cm?
21 cm
- V. CN.** ¿Cómo puedes prevenir adicciones?
Evitando el consumo de sustancias dañinas para la salud.





PREGUNTÓMETRO

CONVIVENCIA ESCOLAR 5°

A Susana le encanta jugar con la pelota azul y no deja que nadie más la use. Cuando alguien intenta hacerlo ella llora. ¿Consideras que su conducta es adecuada? ¿Cómo puede resolverse este conflicto?

No es adecuada. Susana debe aprender a compartir y a manejar sus emociones. Pueden establecerse turnos para que todos puedan jugar con la pelota.

PREGUNTÓMETRO 5º



NIVEL

- I. Historia.** ¿Cómo se llama el tratado mediante el cual México aceptó la pérdida de Nuevo México y California a manos de Estados Unidos de América?
Tratado de Guadalupe – Hidalgo.
- II. Español.** Son narraciones que se han transmitido oralmente de generación en generación e incluyen elementos reales y fantásticos.
Las leyendas.
- III. Matemáticas.** ¿Cuántos vértices tiene un prisma pentagonal?
10 vértices.
- IV. CN.** En una carrera, ¿quién llegaría primero, la luz o el sonido?
La luz.
- V. Geografía.** ¿Qué emisión de gas se ha incrementado por el uso de combustibles fósiles?
La de dióxido de carbono.

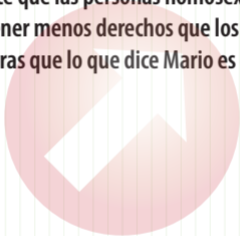




PREGUNTÓMETRO

CONVIVENCIA ESCOLAR 5º

Mario dice que las personas homosexuales deben tener menos derechos que los demás. ¿Consideras que lo que dice Mario es correcto?



No, la Constitución Política establece que todas las personas gozarán de los derechos humanos y éstos no dependen de las preferencias sexuales (Art. 1º).

PREGUNTÓMETRO 5°



NIVEL

I. Español. ¿Qué figuras retóricas puedes utilizar en un anuncio para persuadir a los consumidores?

Las analogías, las metáforas, las comparaciones, las hipérbolos y los juegos de palabras.

II. Matemáticas. ¿Cuál es el número decimal equivalente a la fracción $\frac{583}{1000}$?

0.583

III. CN. ¿Cómo se llama el aparato que sirve para medir fuerzas?

Dinamómetro.

IV. Geografía. ¿Cuáles son los tres aspectos que considera la ONU para medir los progresos generales de un país?

La esperanza de vida, el nivel educativo y el nivel de vida.

V. Historia. ¿A qué partido pertenecía el presidente Vicente Fox Quezada, quien fue triunfador de las elecciones del año 2000?

Al Partido Acción Nacional (PAN).





PREGUNTÓMETRO

CONVIVENCIA ESCOLAR 5º

En casa de Yolanda es su mamá quien siempre hace el quehacer de la casa y la comida, mientras su papá y sus hermanos ven la televisión. ¿Cuál sería una manera justa de distribuir las tareas del hogar?

Que se asignaran tareas de forma equitativa para que todos los miembros de la familia ayuden en algo y la mamá no tenga que hacer todo sola.

PREGUNTÓMETRO 5°



NIVEL

- I. Matemáticas.** ¿Cuánto miden los ángulos rectos?
90°
- II. CN.** ¿Cómo lograron los grupos humanos volverse sedentarios?
Con el desarrollo de la agricultura y el pastoreo.
- III. Geografía.** ¿Cómo se le denomina al desplazamiento de personas dentro de las fronteras de un país?
Migración interna.
- IV. Historia.** Menciona el nombre de las dos instituciones de seguridad social fundadas a mediados del siglo XIX para brindar servicios de salud a la clase trabajadora.
IMSS e ISSSTE.
- V. Español.** **Rápidamente, lentamente, mucho y menos** son ejemplos de:
Adverbios.





PREGUNTÓMETRO

CONVIVENCIA ESCOLAR 5º

¿Por qué cuidar el medio ambiente te beneficia a ti y a quienes te rodean?



Porque todos formamos parte de este planeta y las acciones que hagamos repercuten en nuestra salud y en nuestra vida.

PREGUNTÓMETRO 5º



NIVEL

- I. CN.** ¿Cuáles son los niveles de adicción a las drogas según el Modelo Integral de Prevención de adicciones?
1) No consumo, 2) Uso experimental, 3) Abuso temprano, 4) Abuso, 5) Dependencia, 6) Recuperación.
- II. Geografía.** ¿Cómo se le llama a la mezcla de agua dulce y agua salada que se encuentra en varios cuerpos de agua del planeta?
Agua salobre.
- III. Historia.** ¿Quién usurpó la presidencia de México después de la muerte de Francisco I. Madero?
Victoriano Huerta.
- IV. Español.** ¿Qué función tienen las gráficas en un reporte de encuesta?
Organizar la información para facilitar su comprensión. Además, permite comparar los resultados de las preguntas entre sí.
- V. Matemáticas.** ¿A qué porcentaje de un litro equivale $\frac{1}{5}$ de litro?
20%





PREGUNTÓMETRO

CONVIVENCIA ESCOLAR 5°

¿Cuáles son tres características de una persona responsable?



Cumple con sus obligaciones. Termina sus actividades a tiempo. Cumple las promesas que hace.

PREGUNTÓMETRO 5º



NIVEL

- I. Geografía.** Nombra dos elementos que conforman fronteras naturales y que pueden delimitar fronteras políticas:
Ríos, lagos, mares, cerros, cadenas montañosas, volcanes.
- II. Historia.** ¿Cuál fue el principal propósito de las Leyes de Reforma?
Quitarle poder político y económico a la Iglesia católica.
- III. Español.** ¿Cuándo escribimos con mayúscula?
Al escribir nombres propios, al iniciar un texto o escribir un título y después de un punto.
- IV. Matemáticas.** Un maestro pidió utilizar una regla de 30 cm para medir el contorno de una cancha. Después de medirla, se concluyó que cabe 90 veces en el largo y 50 veces en el ancho de la cancha. ¿Cuál es el perímetro de la cancha en metros?
84 m
- V. CN.** ¿Qué consecuencias en la salud tiene el consumo de drogas?
Infecciones en el corazón, desnutrición, infecciones respiratorias, cáncer pulmonar, adicciones.






PREGUNTÓMETRO

CONVIVENCIA ESCOLAR 5°

¿Por qué es importante participar en las actividades escolares y en la toma de decisiones?



Porque así podemos contribuir a mejorar las condiciones de la escuela y si todos participamos será más fácil lograr cambios.

PREGUNTÓMETRO 5º



NIVEL

- I. **Historia.** ¿Cómo se llama el presidente de México que fue sucesor de Guadalupe Victoria?, una de sus acciones fue hacer efectiva la abolición de la esclavitud.
Vicente Guerrero.
- II. **Español.** ¿Cuál es la función de las frases adjetivas?
Describir y caracterizar personas, objetos o situaciones; permiten detallar las narraciones.
- III. **Matemáticas.** ¿Cuál es el área de un triángulo rectángulo de 8 cm de base por 3 cm de altura?
 12 cm^2
- IV. **CN.** ¿Cuáles son los componentes de un circuito eléctrico?
Generador, conductor y dispositivo.
- V. **Geografía.** ¿Cuáles son algunos fenómenos naturales que pueden volverse un riesgo para el ser humano?
Los sismos, huracanes, tormentas, tornados, erupciones volcánicas, tsunamis.





PREGUNTÓMETRO

CONVIVENCIA ESCOLAR 5º

Si la fila para comprar en la tiendita de la escuela es muy larga, ¿debes formarte al final de la fila o meterte entre los que ya van a llegar?

Debo formarme al final de la fila porque es una regla que todos debemos respetar. Así doy ejemplo de civismo y respeto a las personas que ya estaban formadas.

PREGUNTÓMETRO 5º



NIVEL

- I. Español.** ¿Cuáles son los dos propósitos que pueden tener los anuncios?
Pueden tener un propósito social o político y ser una propaganda, o bien, pueden tener un fin comercial y promover o vender un producto.
- II. Matemáticas.** ¿Cuántas alturas puede tener un triángulo?
3 alturas.
- III. CN.** ¿Qué fuerza es conocida comúnmente como peso y puedes sentirla porque al saltar, inevitablemente caes?
La fuerza de gravedad.
- IV. Geografía.** ¿Cuál es el indicador demográfico que mide la capacidad de un país para brindar acceso a la educación a su población?
Nivel educativo.
- V. Historia.** ¿Qué acciones se establecieron en la reforma electoral de 1996 para evitar que el gobierno tuviera control sobre los procesos electorales?
Que fueran dirigidos por ciudadanos que no militaran en el gobierno y que todos los ciudadanos tendrían una credencial para votar.





PREGUNTÓMETRO

CONVIVENCIA ESCOLAR 5°

Si tienes que trabajar en equipo y uno de los compañeros no comprende lo que debe hacer, ¿es justo enojarse y reclamarle? ¿Por qué?

No es justo. Tampoco es justo que alguien no cumpla con su trabajo por gusto. Pero en este caso, el compañero necesita ayuda. Si puedo, lo ayudo. Ayudar a los compañeros siempre trae beneficios adicionales como nuevos amigos y buenas calificaciones.

PREGUNTÓMETRO 5º



NIVEL

- I. Matemáticas.** ¿Cuántos mililitros es un octavo de litro?
125 ml.
- II. CN.** ¿Cuál es un recurso energético no renovable?
El petróleo.
- III. Geografía.** El número de habitantes, las actividades económicas, la cantidad y calidad de servicios, son algunas diferencias entre dos medios, ¿cuáles son?
El urbano y el rural.
- IV. Historia.** ¿Cuál es el organismo que fue creado en la década de los setenta con la finalidad de disminuir la tasa de crecimiento de la población?
El Consejo Nacional de Población (Conapo).
- V. Español.** ¿Qué medida puedes sugerir en tu escuela para prevenir el rechazo entre tus compañeros?
La realización de pláticas sobre cómo mejorar la convivencia escolar y respetar la diversidad entre los compañeros.






PREGUNTÓMETRO

CONVIVENCIA ESCOLAR 5º

Si recibes ayuda de tus maestros o compañeros para resolver tus dudas, ¿qué debes hacer?



Recordar que la gratitud es más que sólo dar las gracias en el momento en que se recibe la ayuda. Se puede demostrar gratitud siendo recíproco, con un buen comportamiento y cuidando la amistad.

PREGUNTÓMETRO 5º



NIVEL

- I. CN.** ¿Cómo se le llama a la conclusión del ciclo de ovulación femenino, donde el óvulo no fecundado es expulsado del cuerpo?
Menstruación.
- II. Geografía.** ¿Cómo se les denomina a los cuerpos de agua que corren sobre la superficie terrestre y que desembocan en un lago o mar?
Ríos.
- III. Historia.** ¿Cuál fue el Plan en el que Venustiano Carranza desconoció el gobierno de Victoriano Huerta y se autoproclamó Jefe del ejército Constitucionalista?
El Plan de Guadalupe.
- IV. Español.** ¿Para qué se emplean los nexos en un reporte de encuesta?
Para explicar, comparar y ejemplificar la información.
- V. Matemáticas.** ¿Cuál es el 35% de 500?
175





PREGUNTÓMETRO

CONVIVENCIA ESCOLAR 5º

Si un grupo de alumnos molesta a un niño que no puede defenderse, ¿qué debes hacer?



Avisar a los maestros para que ellos detengan el conflicto. Cuando no estén los maestros, puedo decirles a los agresores que nos sentimos mal cuando nos molestan. Lo que nunca debo hacer es agredir a los demás.

PREGUNTÓMETRO 5°



NIVEL

I. Geografía. ¿Con qué países limita el territorio de México?

Con Estados Unidos de América al norte y al sur con Belice y Guatemala.

II. Historia. ¿Quién dirigió el segundo Imperio en México?

Maximiliano de Habsburgo.

III. Español. Las frases **ya que**, **en primer lugar**, **sin embargo** son ejemplos de:

Conectivos.

IV. Matemáticas. ¿A cuántos kilogramos equivalen 7.8 toneladas?

7 800 kg

V. CN. ¿Cuáles son las funciones del hígado?

Limpiar la sangre y regular la coagulación sanguínea.





PREGUNTÓMETRO

CONVIVENCIA ESCOLAR 5°

¿Qué debes hacer cuando tus calificaciones han bajado porque tienes dificultades para aprender un tema?

Darme cuenta de que necesito ayuda y pedirla.
Decirle a mi maestro y también a mis familiares para que sepan que tengo problemas para aprender.
También los compañeros me podrían ayudar.

PREGUNTÓMETRO 5º



NIVEL

- I. Historia.** ¿Cómo se le llamó al enfrentamiento entre México y Francia que inició en noviembre de 1838?
Guerra de los Pasteles.
- II. Español.** Este tipo de texto se distribuye a un grupo que comparte un interés particular. Su distribución se efectúa de manera regular, ya sea cada semana, cada mes, cada dos meses, etcétera.
El boletín informativo.
- III. Matemáticas.** ¿A cuántos metros equivalen 18.3 decámetros?
183 metros.
- IV. CN.** ¿Cuál es la estrella más cercana a la Tierra?
El Sol.
- V. Geografía.** ¿Qué acciones puede tomar un país para enfrentar un desastre natural y disminuir la vulnerabilidad de una población?
El estudio de los fenómenos naturales, la preparación y organización de planes y medidas de contingencia, rescate y reconstrucción.

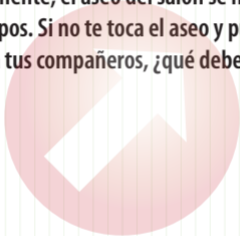




PREGUNTÓMETRO

CONVIVENCIA ESCOLAR 5°

Generalmente, el aseo del salón se hace por equipos. Si no te toca el aseo y puedes ayudar a tus compañeros, ¿qué debes hacer?



Ayudar a los demás para que terminen más rápido. La solidaridad se practica ayudando y colaborando con los demás cuando lo necesitan.

PREGUNTÓMETRO 5°



NIVEL

I. Español. ¿Qué es un eslogan?

Es la frase principal de los anuncios y carteles publicitarios.

II. Matemáticas. Si 5 tamales me cuestan \$40, ¿cuánto me costarán 9 tamales?

72 pesos.

III. CN. ¿Cuál es la principal característica de las mezclas homogéneas?

Que sus componentes no pueden identificarse a simple vista.

IV. Geografía. ¿Qué país cuenta actualmente con el Producto Interno Bruto per cápita más alto?

Noruega.

V. Historia. En el 2014 el nombre del Instituto Federal Electoral cambió, ¿cuál es el nombre actual de esta institución?

Instituto Nacional Electoral (INE).





PREGUNTÓMETRO

CONVIVENCIA ESCOLAR 5º

¿Qué debes hacer si alguien de tu salón te hace sentir mal y no se da cuenta?



Hablar claro con esa persona para que sepa cómo me siento y deje de hacerlo. La comunicación eficiente es la base de la convivencia; los malos entendidos y los problemas entre compañeros muchas veces se dan porque hay mala comunicación.

PREGUNTÓMETRO 5º



NIVEL

I. Matemáticas. ¿Cómo representas el siglo en el que se encuentra el año 1955?

Siglo XX.

II. CN. ¿Cuáles son algunas acciones de los seres humanos que alteran a los ecosistemas?

La tala excesiva de árboles y la contaminación de ríos, lagos y mares.

III. Geografía. ¿Cuál es un sinónimo de ciudad?

Urbe, metrópoli, capital.

IV. Historia. Menciona el nombre de las dos ciudades con mayor población en México durante la década de los setenta.

La ciudad de México y la de Guadalajara.

V. Español. Es el signo de puntuación que se utiliza para separar distintos elementos o características de algún elemento en listas o enumeraciones.

La coma.





PREGUNTÓMETRO

CONVIVENCIA ESCOLAR 5º

Si quieres hacer amigos y uno de tus compañeros te dice que será tu amigo si dices una mentira que afecte a otro compañero, ¿debes aceptar su amistad? Justifica tu respuesta.

No. La amistad es un valor que no acepta condiciones, por lo tanto, es mejor tener pocos amigos que duren para siempre.

PREGUNTÓMETRO 5°



NIVEL

- I. CN.** ¿A qué tipo de caracteres masculinos corresponden el desarrollo de barba y bigote, y el cambio a una voz más grave?
A los caracteres sexuales secundarios.
- II. Geografía.** ¿Qué clima se localiza en las latitudes altas y presenta temperaturas por debajo de los 0 °C?
Polar.
- III. Historia.** Menciona el nombre de dos caudillos revolucionarios que lucharon a favor de los campesinos.
Francisco Villa y Emiliano Zapata.
- IV. Español.** ¿Cuáles son los elementos esenciales de una referencia bibliográfica?
Autor, título, año, lugar y editorial.
- V. Matemáticas.** ¿Cómo se representa 75% con fracción?

$$\frac{3}{4}$$





PREGUNTÓMETRO

CONVIVENCIA ESCOLAR 5º

Si en la escuela los niños se burlan de un compañero porque sus costumbres y su vestimenta son diferentes a las de los demás y te piden que tú también lo hagas, ¿te burlarías de él? Justifica tu respuesta.

Definitivamente evitaría burlarme. Pensaría cómo debe sentirse él y que no me gustaría sentir lo mismo. Es decir, sería empático. Siendo empático con los demás doy y recibo un buen trato.

PREGUNTÓMETRO 5º



NIVEL

- I. Geografía.** ¿Cuál es el segundo continente más extenso en el mundo?
América.
- II. Historia.** ¿Cuál es la frase de Benito Juárez que sintetiza el respeto y la soberanía entre las naciones?
“Entre los individuos, como entre las naciones, el respeto al derecho ajeno es la paz”.
- III. Español.** ¿Qué necesitas para defender tu postura en un debate?
Argumentos.
- IV. Matemáticas.** Tengo un tambo de 20 litros y necesito verterlo en envases de 750 mililitros, ¿cuántos envases puedo llenar y cuántos mililitros me sobran?
26 envases y me sobran 500 mililitros.
- V. CN.** Son problemas y daños relacionados con el abuso del alcohol.
Abuso infantil, violencia intrafamiliar, conducta suicida, riesgo de homicidio.





PREGUNTÓMETRO

CONVIVENCIA ESCOLAR 5°

Estás en casa y aún no haces la tarea cuando tus amigos te invitan a jugar. ¿Qué debes hacer para cumplir con tus deberes y no perderte la actividad con tus amigos?

Como tengo claro que la prioridad es la tarea, la haría cuanto antes y estaría listo para cuando mis amigos me inviten a jugar. El orden y la disciplina son la clave. Incluso me puede sobrar tiempo para divertirme en otras cosas.

PREGUNTÓMETRO 5°



NIVEL

- I. Historia.** País con el que México mantuvo enfrentamientos y que, en 1848, concluyeron con la pérdida de una parte considerable del territorio mexicano.
Estados Unidos de América.
- II. Español.** En una familia léxica, ¿cómo se llama la parte de las palabras que no cambia?
Lexema.
- III. Matemáticas.** Si 5 kilos de kiwi cuestan \$205, ¿cuánto costarán 3.5 kilogramos?
\$143.5
- IV. CN.** ¿Cuáles son los planetas rocosos de nuestro Sistema Solar?
Mercurio, Venus, Tierra y Marte.
- V. Geografía.** ¿Para qué sirve un mapa de riesgos?
Para ubicar los fenómenos naturales y humanos que pueden amenazar a una localidad.

