



PREGUNTÓMETRO

CONVIVENCIA ESCOLAR 4º

Paco está triste y llora porque no encuentra a su mascota. Algunos de sus compañeros se burlan de él y le dicen que los hombres no deben llorar. ¿Es correcto lo que hacen sus compañeros? Explica por qué.

No es correcto, porque todas las personas tienen derecho a expresar sus emociones. Sus amigos en vez de burlarse deben entenderlo y brindarle su apoyo.

PREGUNTÓMETRO 4^o



NIVEL

- I. Español.** ¿Qué aspectos debes considerar al realizar una exposición? Menciona tres de ellos.
La elección del tema, la elaboración de un guion para la exposición y el diseño de materiales de apoyo.
- II. Matemáticas.** Mariana divide su pastel en 15 partes, de las cuales le da 1 parte a cada uno de sus 6 primos, 2 partes a su tía Sofía y 3 partes a su abuelita. ¿Qué fracción expresa la cantidad de pastel que le quedó?
 $\frac{4}{15}$ de pastel.
- III. CN.** ¿Cuáles son los tres estados físicos que pueden observarse en el ciclo del agua?
Sólido, líquido y gaseoso.
- IV. Geografía.** ¿Cómo se llama el tipo de ganadería que es practicada en grandes extensiones territoriales y es común en países no desarrollados?
Extensiva.
- V. Historia.** ¿Cuáles fueron tres de las principales causas del movimiento de independencia en Nueva España?
Las reformas borbónicas, la invasión de Napoleón Bonaparte a España y el pensamiento ilustrado.






PREGUNTÓMETRO

CONVIVENCIA ESCOLAR 4^o

Daniela está molesta con Javier porque él tomó su cuaderno sin su permiso. ¿Qué debe hacer?



Hablar con Javier para expresar sus emociones tranquilamente y decirle de manera clara y directa que no lo vuelva a hacer porque tomar las cosas sin permiso es una falta de respeto y la hace sentir mal.

PREGUNTÓMETRO 4^o



NIVEL

I. Matemáticas. En la kermesse de la primaria se venden 150 platos de pozole a 25 pesos el plato, 300 aguas frescas a 7 pesos el vaso y 200 tacos al vapor a 4 pesos cada uno. ¿Cuánto se recauda de la venta de estas tres cosas?

6 650 pesos.

II. CN. ¿Cuál es el órgano sexual femenino de una planta con flor?

El pistilo o gineceo.

III. Geografía. ¿Cuáles son las seis entidades más pobladas del país?

Estado de México, D.F., Veracruz, Jalisco, Puebla y Guanajuato.

IV. Historia. ¿Cuáles fueron los primeros grupos raciales que integraron la sociedad de Nueva España?

Españoles, indígenas y africanos.

V. Español. Además de buscar en el diccionario, ¿de qué otra manera podemos identificar el significado de las palabras?

Analizando el contexto en el que son usadas.






PREGUNTÓMETRO

CONVIVENCIA ESCOLAR 4^o

**¿Qué acciones puedes llevar a cabo para mejorar la convivencia en tu escuela?
Menciona dos.**



Ser amable y pedir las cosas por favor. Respetar los turnos al hablar. No discutir.

PREGUNTÓMETRO 4º



NIVEL

- I. CN.** ¿Qué características debe tener una dieta correcta?
Debe ser completa, equilibrada, variada, suficiente e inocua.
- II. Geografía.** ¿Qué nombre recibe el relieve natural constituido por un conjunto de montañas?
Sierra.
- III. Historia.** ¿Con qué nombre se le conoce a los enfrentamientos entre europeos y musulmanes por la recuperación de Jerusalén, considerada "tierra santa"?
Cruzadas.
- IV. Español.** ¿Qué tipo de vocabulario suele integrar palabras latinas y griegas?
El científico.
- V. Matemáticas.** ¿Cuál es la fracción equivalente en octavos de $\frac{3}{24}$?
 $\frac{1}{8}$






PREGUNTÓMETRO

CONVIVENCIA ESCOLAR 4^o

En el salón de Daniel deben escoger un jefe de grupo que los represente. ¿Cuál es una forma de elegirlo democráticamente?



Hacer una votación y nombrar a la persona que obtenga más votos.

PREGUNTÓMETRO 4^o



NIVEL

- I. Geografía.** ¿Cómo se le llama a una gran extensión de mar encerrada por dos puntas?
Golfo.
- II. Historia.** ¿Cuál es el nombre del área cultural que abarcó desde el noroeste de México hasta Centroamérica y que por sus características geográficas permitió el florecimiento de las principales culturas prehispánicas?
Mesoamérica.
- III. Español.** ¿Cómo puedes obtener información específica cuando la fuente es una persona y sus conocimientos?
Mediante una entrevista.
- IV. Matemáticas.** Octavio gana 8 400 pesos al mes y ahorra una sexta parte de su salario. ¿Cuánto dinero ahorra?
1 400 pesos.
- V. CN.** ¿Cuáles son los tipos de hongos que ayudan a la fermentación de algunas sustancias?
Las levaduras.





PREGUNTÓMETRO

CONVIVENCIA ESCOLAR 4^o

Cada vez que Marcela se enoja, se queda callada e ignora a todos. ¿Consideras que ella está haciendo un buen manejo de sus emociones?

No, porque quedarse callada no contribuye a expresar sus sentimientos ni a resolver la situación que la hace enojar.

PREGUNTÓMETRO 4^o



NIVEL

- I. Historia.** ¿Cómo se le llama al periodo en el que el descenso de la temperatura global extendió el hielo de los casquetes hasta las zonas templadas?
Glaciación.
- II. Español.** ¿Cómo se le llama al texto expositivo en el que se desarrolla un solo tema y se utilizan diversas fuentes de información?
La monografía.
- III. Matemáticas.** Marcela tenía ahorrados \$1 500 y gastó \$950 en unos patines. Raquel ahorró \$330 y su abuela le dio por su cumpleaños \$220.
¿Quién tiene más cantidad de dinero ahorrado?
Las dos tienen ahorrado \$2 700.
- IV. CN.** ¿Qué nombre recibe la fuerza que se opone al movimiento de un cuerpo que entra en contacto con otro?
Fricción.
- V. Geografía.** ¿Cómo se le llama al indicador que determina el promedio de años que viven los habitantes de una población?
Esperanza de vida.





PREGUNTÓMETRO

CONVIVENCIA ESCOLAR 4^o

Sin consultar a sus amigos, Cristina ha decidido que todos tendrán que darle \$5 a la semana y a cambio ella comprará chocolates. Luisa, Ana y Juan no están de acuerdo porque no les gustan los chocolates. ¿Qué deben hacer ante esta situación?

Decirle a Cristina que antes de tomar una decisión debe consultarlos para que puedan llegar a un acuerdo que le convenga a la mayoría.

PREGUNTÓMETRO 4º



NIVEL

- I. Español.** ¿Qué recursos puedes utilizar para presentar la información que proviene de una fuente consultada?

Una cita textual, una paráfrasis o un resumen.

- II. Matemáticas.** Joaquín utiliza $\frac{2}{5}$ partes de su día para practicar fútbol y Julián $\frac{16}{40}$ partes del día. ¿Quién practica más tiempo?

Los dos practican el mismo tiempo, porque $\frac{2}{5} = \frac{16}{40}$

- III. CN.** ¿Qué elemento de la naturaleza tiene volumen, pero no dureza, y puede adquirir la forma del recipiente que lo contiene?

El agua.

- IV. Geografía.** De acuerdo con el INEGI, ¿cuáles son los tres cultivos de mayor producción en México?

La caña de azúcar, el maíz y el sorgo.

- V. Historia.** ¿Cómo se le conoce al movimiento desarrollado entre los siglos XVII y XVIII que ponía en alto la razón ante las creencias religiosas en la explicación de fenómenos naturales y sociales?

La Ilustración.





PREGUNTÓMETRO

CONVIVENCIA ESCOLAR 4º

José, Claudia y Alejandro están en un equipo para realizar un proyecto de Español. José termina haciendo todo el trabajo porque a Alejandro y a Claudia se les olvidó. ¿Es justa esta situación? ¿Por qué?

No es justa, porque si es un trabajo en equipo todos deben colaborar. Es injusto que una sola persona haga lo que le corresponde a los demás.

PREGUNTÓMETRO 4º



NIVEL

- I. **Matemáticas.** ¿Cuál es la expresión polinómica del número 5 782?
 $(5 \times 1\,000) + (7 \times 100) + (8 \times 10) + (2 \times 1)$
- II. **CN.** ¿Cuál es la parte de la planta que contiene un embrión del que se puede desarrollar una nueva planta?
La semilla.
- III. **Geografía.** ¿Cuáles son las tres categorías en las que se puede clasificar la distribución geográfica de la población en un territorio?
Alta concentración, mediana concentración, dispersión.
- IV. **Historia.** ¿Cómo se le conoce a la mezcla racial entre los grupos que habitaron la sociedad de Nueva España?
Mestizaje.
- V. **Español.** ¿Qué tipo de información puedes encontrar en un texto biográfico sobre un personaje?
Los datos sobre el lugar y la fecha de su nacimiento, sus obras o trabajos más destacados y los acontecimientos más importantes de su vida.





PREGUNTÓMETRO

CONVIVENCIA ESCOLAR 4^o

Rodrigo se tropieza al entrar al salón de clases y se lastima la rodilla, sus compañeros se ríen de él. ¿Es correcto lo que hicieron? ¿Por qué?

No es correcto, porque en vez de burlarse deberían ayudarlo a sentirse mejor, y al reírse sólo están contribuyendo a que él se sienta más avergonzado.

PREGUNTÓMETRO 4^o



NIVEL

- I. CN.** ¿De qué grupo alimenticio obtenemos las proteínas?
De las leguminosas y los alimentos de origen animal.
- II. Geografía.** ¿Con base en qué se mide la altura de un lugar sobre la superficie de la Tierra?
Con base en el nivel del mar.
- III. Historia.** ¿Cuál fue la causa por la que los europeos se aventuraron a la exploración de nuevas rutas para llegar a la India?
La conquista de Constantinopla por los turcos-otomanos que bloqueó las rutas comerciales entre Europa y Asia.
- IV. Español.** ¿Para qué puedes utilizar un cuadro sinóptico?
Para sintetizar y organizar la información de un texto expositivo.
- V. Matemáticas.** Carlos compró un pastel y lo partió en 5 rebanadas iguales. Juan compró un pastel del mismo tamaño y lo partió en 10 rebanadas iguales. Si Carlos le regaló a su mamá 2 de las 5 partes, ¿cuántas partes le deberá dar Juan a su mamá para que sea la misma cantidad de pastel?
4 partes de las 10.





PREGUNTÓMETRO

CONVIVENCIA ESCOLAR 4º

Mireya quiere que sus compañeros piensen igual que ella y que tengan sus mismos gustos, cuando eso no pasa, ella se enoja y se siente ofendida. ¿Consideras que Mireya está actuando correctamente?

No, porque ella debe aprender a ser tolerante y entender que las diferencias de opinión se deben respetar. El hecho de que otros tengan gustos diferentes a los suyos no quiere decir que estén en su contra, o que sean mejores o peores.

PREGUNTÓMETRO 4^o



NIVEL

- I. Geografía.** ¿En qué dirección limita el territorio mexicano con el Océano Pacífico?
Oeste.
- II. Historia.** ¿Cuáles son las seis áreas geográficas y culturales mesoamericanas?
Occidente, Altiplano Central, Golfo de México, Oaxaca, Región Maya y Norte.
- III. Español.** ¿Para qué es útil elaborar un guion antes de realizar una entrevista?
Para establecer claramente la información que se quiere obtener y elaborar las preguntas adecuadas para obtenerla.
- IV. Matemáticas.** Gerardo tiene un terreno de 1 500 m², y vendió $\frac{3}{5}$ partes a su cuñado. ¿Qué superficie le vendió a su cuñado?
900 m²
- V. CN.** ¿Qué factores físicos son necesarios para que un hongo crezca?
La humedad, la luz y el calor.






PREGUNTÓMETRO

CONVIVENCIA ESCOLAR 4^o

Al salir de la escuela te encuentras una cartera tirada, con dinero e identificaciones personales de su dueño. ¿Qué debes hacer?



Llevarla a la Dirección para intentar localizar a su dueño y entregársela.

PREGUNTÓMETRO 4^o



NIVEL

- I. Historia.** ¿Cuáles eran las principales actividades de los grupos humanos nómadas? Menciona dos.
La caza y la recolección.
- II. Español.** ¿Qué recurso puedes utilizar para organizar el contenido que obtienes de diversas fuentes de información?
El mapa conceptual.
- III. Matemáticas.** ¿Cuál resultado de las siguientes operaciones es mayor 8×15 o $150 - 30 + 10$?
El de $150 - 30 + 10$
- IV. CN.** ¿En qué se utiliza la fibra óptica?
En las telecomunicaciones como el internet y la televisión.
- V. Geografía.** ¿Cuáles son los tres estados de la república mexicana con mayor índice de analfabetismo?
Chiapas, Guerrero y Oaxaca.






PREGUNTÓMETRO

CONVIVENCIA ESCOLAR 4º

Priscila cree que todas las niñas son débiles y por eso no deben jugar futbol. ¿Qué piensas de esto?



Que su opinión se basa en prejuicios y estereotipos de género. Porque las mujeres también pueden jugar futbol si así lo desean.

PREGUNTÓMETRO 4^o



NIVEL

I. Español. ¿Qué es una paráfrasis?

Es la información que proviene de una fuente consultada y se presenta usando palabras propias o sinónimos.

II. Matemáticas. ¿Cuál es el resultado de sumar $17.82 + 42.12 + 0.985$?

60.925

III. CN. ¿Cuál es el estado sólido del agua?

El hielo.

IV. Geografía. La plantación, la renovación y la tala de árboles maderables, son los principales ejemplos de esta actividad económica.

Forestal.

V. Historia. ¿Cuáles son algunas de las principales ideas de los ilustradores respecto a la forma de gobierno? Menciona al menos dos.

Que el gobierno debería dividirse en tres poderes: ejecutivo, legislativo y judicial, que los gobernantes deben ser elegidos por los ciudadanos y que las autoridades sólo deben gobernar por un tiempo establecido.





PREGUNTÓMETRO

CONVIVENCIA ESCOLAR 4^o

¿Qué es el *bullying* y cómo afecta a las personas?



El *bullying* es cuando uno o varios compañeros molestan o agreden constantemente a otros. Esto afecta a la víctima porque daña su integridad física o psicológica.

PREGUNTÓMETRO 4^o



NIVEL

- I. Matemáticas.** ¿Cuántos milésimos hay en el número 0.375?
375 milésimos.
- II. CN.** ¿Cuál es uno de los pocos mamíferos ovíparos venenosos del planeta?
El ornitorrinco.
- III. Geografía.** ¿Cuál es el medio en el que la mayoría de las actividades económicas son primarias y la oferta de servicios es menor?
Rural.
- IV. Historia.** ¿Cómo eran llamados los descendientes de un español y una indígena?
Mestizos.
- V. Español.** ¿Qué función tienen los textos biográficos?
Dar a conocer la vida y obra de personajes importantes.






PREGUNTÓMETRO

CONVIVENCIA ESCOLAR 4^o

¿Qué significa la frase “El respeto al derecho ajeno es la paz”?



Que la convivencia pacífica se basa en respetar los derechos de los demás.

PREGUNTÓMETRO 4°



NIVEL

- I. CN.** ¿Cuáles son las características del agua simple potable?
Libre de sabor, color, olor y microorganismos.
- II. Geografía.** ¿Cómo se le conoce a los cuerpos de agua dulce alimentados por un río subterráneo, que son comunes en la península de Yucatán?
Cenotes.
- III. Historia.** ¿Cuáles fueron los reinos europeos que iniciaron la exploración de nuevas rutas para llegar a la India?
Portugal y España.
- IV. Español.** ¿Por qué es importante que los textos expositivos incluyan recursos gráficos?
Porque los recursos gráficos facilitan la presentación y comprensión de la información desarrollada en el texto.
- V. Matemáticas.** Tengo 82 naranjas; para hacer una jarra de jugo necesito 7 de ellas. ¿Cuántas naranjas me faltan, como mínimo, si necesito llenar varias jarras sin que me sobren?
2 naranjas.





PREGUNTÓMETRO

CONVIVENCIA ESCOLAR 4^o

Enrique no está de acuerdo con la organización de las tareas de grupo que propuso Martín. Enrique decide hablar con Martín para expresar su inconformidad y proponer una nueva forma de trabajo. ¿Es correcto lo que hizo Enrique? ¿Por qué?

Sí, porque en vez de alterarse o quedarse callado buscó solucionar el conflicto mediante el diálogo.

PREGUNTÓMETRO 4^o



NIVEL

- I. **Geografía.** ¿Cómo se le conoce al límite geográfico que separa dos países o estados?
Frontera.
- II. **Historia.** ¿Cuál fue la principal cultura mesoamericana que se desarrolló en el periodo Preclásico?
La cultura olmeca.
- III. **Español.** En una entrevista, ¿qué tipo de preguntas permiten que el entrevistado pueda desarrollar una explicación más amplia sobre el tema?
Las abiertas.
- IV. **Matemáticas.** Octavio gana 8 500 pesos al mes, de los cuales ahorra $\frac{2}{5}$ partes. ¿Cuánto dinero ahorra?
3 400 pesos.
- V. **CN.** ¿Qué nombre reciben las bacterias que se encuentran en el yogur?
Lactobacilos.






PREGUNTÓMETRO

CONVIVENCIA ESCOLAR 4^o

Gabriel quiere mejorar su promedio de calificaciones este año. ¿Qué puede hacer para cumplir su meta?



Cumplir con sus tareas, poner atención en clase y estudiar regularmente.

PREGUNTÓMETRO 4^o



NIVEL

I. Historia. ¿Cómo se le llama al estilo de vida de los seres humanos que consiste en el desplazamiento constante de un lugar a otro?

Nomadismo.

II. Español. ¿Qué función cumplen las oraciones tópicas en un texto?

Presentan la idea central en cada párrafo.

III. Matemáticas. ¿Cuál de las siguientes fracciones no es equivalente entre ellas $\frac{2}{3}$, $\frac{12}{18}$ y $\frac{15}{21}$?

$\frac{15}{21}$

IV. CN. Son los tres mecanismos de electrización de un cuerpo.

El frotamiento, el contacto y la inducción.

V. Geografía. ¿Cuál fue el rango de esperanza de vida en México durante el 2012?

De 74 a 77 años.





PREGUNTÓMETRO

CONVIVENCIA ESCOLAR 4^o

Paola y su equipo están exponiendo un tema en la clase de Historia, sin embargo, Leo los interrumpe constantemente y no espera su turno para hablar. ¿Es correcto lo que hace Leo?, ¿cómo afecta su comportamiento a los demás?

No es correcto. Afecta a los demás porque no los deja expresarse y no espera el momento que cada quien debe tener para hablar, por lo tanto está cometiendo una falta de respeto.

PREGUNTÓMETRO 4º



NIVEL

- I. Español.** Menciona algunas palabras que introducen oraciones interrogativas.
Qué, quién, cómo, cuándo, dónde, por qué.
- II. Matemáticas.** En una pirámide cuadrangular, ¿qué figura forman las caras laterales?
Triángulo.
- III. CN.** ¿Qué nombre recibe el cuarto estado de la materia?
Plasma.
- IV. Geografía.** ¿Qué nombre reciben los lugares en los que se acumula naturalmente un mineral?
Yacimientos.
- V. Historia.** ¿Cómo se llaman las reformas aplicadas por España en el siglo XVIII que consistieron en la creación de nuevos impuestos, la restricción de la autoridad del virrey y la disminución de órdenes religiosas?
Reformas borbónicas.





PREGUNTÓMETRO

CONVIVENCIA ESCOLAR 4º

Marco está muy enojado con Ernesto porque le dice un apodo que no le gusta. ¿Cómo pueden resolver este conflicto de manera pacífica?

Mediante el diálogo. Marco debe decirle a Ernesto que no le gusta que lo llamen de ese modo y explicarle que eso es importante para llevar una relación cordial.

PREGUNTÓMETRO 4^o



NIVEL

- I. Matemáticas.** Jazmín compró en la papelería un cuaderno de \$33.50, tres plumas de \$5.80 cada una y una caja de colores de \$48.90. ¿Cuánto dinero gastó?
\$99.80
- II. CN.** ¿Cuál es el animal ovovivíparo que tiene el periodo de gestación más largo del planeta (hasta 42 meses)?
El tiburón anguila.
- III. Geografía.** El hacinamiento es una problemática de la vida en el medio _____.
Urbano
- IV. Historia.** ¿Cómo eran llamados los descendientes de españoles y africanos?
Mulatos.
- V. Español.** ¿Qué contenido se desarrolla en una nota periodística?
La descripción de acontecimientos novedosos y actuales en ámbitos políticos, económicos o sociales.





PREGUNTÓMETRO

CONVIVENCIA ESCOLAR 4º

¿Cuáles son algunas formas de ser honesto?



Decir siempre la verdad. Cumplir lo que prometo.
Expresar lo que siento. Tomar sólo lo que me pertenece.

PREGUNTÓMETRO 4^o



NIVEL

- I. **CN.** ¿Qué nombre reciben los anticuerpos que se administran para contrarrestar enfermedades como el sarampión, la rubeola y el tétanos?
Vacunas.
- II. **Geografía.** Menciona algunos volcanes que aún estén activos en México:
El Popocatepetl, El Volcán de Fuego, El Ceboruco, El Pico de Orizaba, El Chichonal.
- III. **Historia.** ¿Cómo se llama el primer explorador portugués en llegar a cabo de Buena Esperanza, en el extremo sur de África?
Bartolomé Díaz.
- IV. **Español.** ¿Qué tiempo verbal utiliza el narrador en los textos narrativos?
El pasado.
- V. **Matemáticas.** Mario compró 100 audífonos para su negocio. Si cada uno de los audífonos le costó 350 pesos, ¿cuánto pagó en total?
35 000 pesos.





PREGUNTÓMETRO

CONVIVENCIA ESCOLAR 4^o

¿Qué es el respeto?



El respeto es el valor que hace referencia a tratar bien a las personas y tener consideración con ellas.

PREGUNTÓMETRO 4^o



NIVEL

- I. Geografía.** ¿Cuál es el estado de la República Mexicana con mayor cantidad de municipios?
Oaxaca (570).
- II. Historia.** ¿Durante qué periodo se desarrollaron las culturas teotihuacana, zapoteca y maya?
En el periodo Clásico.
- III. Español.** ¿Qué discurso se emplea en un reporte de entrevista cuando se escribe la información tal y como la dijo el entrevistado?
Directo.
- IV. Matemáticas.** En el trabajo de Myrna, 15 personas usan lentes y 20 no. ¿Cuál es la fracción que representa a las personas que usan lentes del total?
 $\frac{3}{7}$
- V. CN.** ¿En qué consiste el modelo heliocéntrico del sistema solar?
En este modelo, los astros se desplazan en círculos alrededor del Sol.

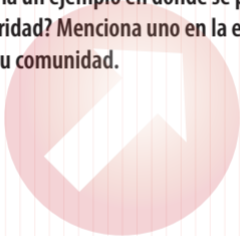




PREGUNTÓMETRO

CONVIVENCIA ESCOLAR 4º

¿Cuál sería un ejemplo en donde se practica la solidaridad? Menciona uno en la escuela y otro en tu comunidad.



En la escuela: ayudar a los compañeros a mantener limpio el salón. En la comunidad: ayudar a un adulto mayor a cruzar la calle.

PREGUNTÓMETRO 4^o



NIVEL

- I. Historia.** ¿Cuáles son dos de las actividades que dieron paso al sedentarismo de los primeros grupos humanos?
La agricultura y la domesticación de animales.
- II. Español.** Menciona algunas palabras de origen náhuatl que usamos de manera cotidiana.
Aguacate, cacahuete, chocolate, pozole, tamal, tomate.
- III. Matemáticas.** En la casa de Melisa compraron 3 pizzas medianas y las repartieron entre 7 personas; en cambio, en la casa de Sergio compraron 2 pizzas medianas y las repartieron entre 5 personas. ¿En cuál de las dos casas les tocó más cantidad de pizza?
En la casa de Melisa.
- IV. CN.** ¿Qué nombre recibe el cambio de dirección que toman los rayos de luz al pasar de un medio gaseoso a uno líquido?
Refracción.
- V. Geografía.** ¿Cuáles son los principales contaminantes del aire en nuestro país?
El ozono, el polvo y el hollín.





PREGUNTÓMETRO

CONVIVENCIA ESCOLAR 4º

Mientras jugaban en el patio, Julieta empujó a Mónica sin querer, Mónica se cayó y comenzó a llorar. ¿Cómo pueden resolver este conflicto pacíficamente?

Julieta debe disculparse con Mónica, explicarle que fue un accidente y ofrecerle su ayuda.

PREGUNTÓMETRO 4^o



NIVEL

- I. Español.** ¿Cómo se le llama al juego de palabras en el que se cambia el significado de una frase al agrupar de manera distinta las sílabas que contiene, lo que produce ambigüedad?
Calambur.
- II. Matemáticas.** En un prisma pentagonal, ¿qué figura forman las caras laterales?
Rectángulo.
- III. CN.** ¿Qué efecto tiene el calor en los metales?
Hace que se dilaten.
- IV. Geografía.** ¿Cuáles son las 3 clasificaciones de los recursos mineros según sus características y uso económico?
Metálicos, no metálicos y energéticos.
- V. Historia.** ¿Cuál era el sector social de Nueva España con mayor descontento ante las reformas borbónicas?
Los criollos.





PREGUNTÓMETRO

CONVIVENCIA ESCOLAR 4^o

Xóchitl es nueva en la escuela, ella viene de una comunidad indígena y habla náhuatl. Algunos de sus compañeros se burlan de ella por su tono de piel y su forma de hablar. ¿Por qué es incorrecto lo que hacen sus compañeros?

Porque es una falta de respeto que demuestra actitudes racistas hacia ella. Como mexicanos debemos valorar nuestras raíces y aprender a convivir de manera justa y armónica.

PREGUNTÓMETRO 4^o



NIVEL

- I. **Matemáticas.** En la sucesión **100, 93, 86, 79, ...**, ¿cuál es el número que ocupa la posición número 8?
51
- II. **CN.** ¿Qué organismos se encargan de descomponer la materia orgánica para reintegrarla al ambiente?
Los hongos.
- III. **Geografía.** Principalmente, ¿en qué sectores económicos trabajan los migrantes latinoamericanos que viven en Estados Unidos de América? Menciona tres.
La construcción, la manufactura y el comercio.
- IV. **Historia.** ¿Qué nombre recibían los hijos de españoles nacidos en América?
Criollos.
- V. **Español.** ¿Qué elementos componen la nota periodística?
El encabezado, el lugar y fecha de edición, el cuerpo de la nota y las imágenes y los gráficos.





PREGUNTÓMETRO

CONVIVENCIA ESCOLAR 4^o

Cuando Paty no está de acuerdo con Salvador, ella le grita y lo agrede.

¿Es correcto lo que hace Paty?, ¿cuál es la mejor manera de actuar ante esta situación?

No es correcto, al reaccionar así ella está siendo irrespetuosa. Lo que debe hacer es encontrar una solución mediante el diálogo, sin violencia verbal ni física.

PREGUNTÓMETRO 4^o



NIVEL

- I. CN.** ¿Qué sistema se encarga de proveer defensas al organismo ante enfermedades o heridas?
El sistema inmunológico.
- II. Geografía.** ¿Cuáles son algunas de las propiedades de un río que están determinadas por el relieve geográfico? Menciona dos.
La dirección y velocidad.
- III. Historia.** ¿Qué instrumento era utilizado antiguamente por los marinos durante las exploraciones a otros continentes para ver las estrellas y conocer el lugar donde estaban?
El astrolabio.
- IV. Español.** ¿Cuáles son las partes de la estructura de un cuento?
Inicio, desarrollo y desenlace.
- V. Matemáticas.** ¿Cuál de los siguientes números es el más cercano a 100? **38, 66, 138, 166**
66





PREGUNTÓMETRO

CONVIVENCIA ESCOLAR 4^o

¿Cuáles son algunas acciones que ayudan a combatir la corrupción?



No dar dinero o intercambiar favores para obtener un beneficio (no sobornar). Pagar impuestos.
Cumplir con la ley.

PREGUNTÓMETRO 4^o



NIVEL

- I. **Geografía.** ¿Cuál es el único estado de la República Mexicana que colinda con un solo estado?
Baja California Sur.
- II. **Historia.** ¿En qué periodo se desarrollaron las culturas tolteca, mixteca y mexica?
En el periodo Posclásico.
- III. **Español.** ¿Qué palabra rima con amigo?
Abrigo.
- IV. **Matemáticas.** Luisa tenía cierta cantidad de manzanas. Si se comió $\frac{2}{3}$ partes y se quedó con 15 manzanas, ¿cuántas tenía al principio?
45 manzanas.
- V. **CN.** ¿Cuánto tiempo tarda el movimiento de rotación lunar?
28 días.





PREGUNTÓMETRO

CONVIVENCIA ESCOLAR 4°

Joaquín usa silla de ruedas porque no puede caminar. Él va a pasar a 3° de primaria y el único acceso para llegar a ese salón es por las escaleras. ¿Qué pueden hacer en la escuela para facilitar el acceso de Joaquín a su salón?

Construir una rampa o destinar para 3° un salón cuyo acceso no tenga escaleras.

PREGUNTÓMETRO 4^o



NIVEL

- I. Historia.** ¿Cómo se llamaban las tres áreas culturales del México antiguo?
Aridoamérica, Mesoamérica y Oasisamérica.
- II. Español.** ¿Cuál es la principal función de los refranes?
Expresar un consejo útil para la vida cotidiana.
- III. Matemáticas.** ¿Cuál es el resultado de restar $\frac{7}{16} - \frac{3}{8}$?
- IV. CN.** ¿Qué filósofo griego descubrió que al frotar una resina de madera o ámbar, en prendas de algodón podía atraer cuerpos ligeros como semillas de pasto?
Tales de Mileto.
- V. Geografía.** ¿Qué significa PLAN DN-III-E?
Plan de Auxilio a la Población Civil en Casos de Desastre.






PREGUNTÓMETRO

CONVIVENCIA ESCOLAR 4^o

La educación es uno de tus derechos. ¿Cuál es tu obligación que corresponde a ese derecho?



Estudiar, hacer la tarea y llegar a tiempo a la escuela.

PREGUNTÓMETRO 4^o



NIVEL

I. Español. ¿Qué es un trabalenguas?

Es un juego de palabras cuya pronunciación es muy complicada.

II. Matemáticas. ¿Cuántos grados mide un giro completo?

360°

III. CN. ¿Cómo puede cambiar el agua de estado líquido a gaseoso?

A través de la ebullición.

IV. Geografía. ¿Cómo se le llama a la actividad que consiste en la crianza de especies acuáticas en condiciones controladas?

Acuicultura.

V. Historia. Personaje femenino que en el inicio del movimiento de independencia de Nueva España participó como intermediario en las conspiraciones de Querétaro.

Josefa Ortiz de Domínguez, "La corregidora".

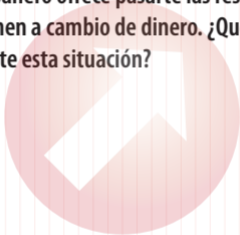




PREGUNTÓMETRO

CONVIVENCIA ESCOLAR 4^o

Un compañero ofrece pasarte las respuestas del examen a cambio de dinero. ¿Qué debes hacer ante esta situación?



Decirle que no y explicarle que está cometiendo un acto de corrupción y deshonestidad al que tú no piensas contribuir.

PREGUNTÓMETRO 4^o



NIVEL

- I. Matemáticas.** Para preparar un flan napolitano, Elvira utiliza 6 huevos. ¿Cuántos huevos necesitará para preparar 15 flanes?
90 huevos.
- II. CN.** ¿Qué te permite fortalecer tu sistema inmunológico?
Una dieta equilibrada y el consumo regular de agua simple potable.
- III. Geografía.** ¿Cómo se les conoce a los grupos de personas que comparten el idioma, la cultura, la ideología, el lugar de residencia u origen, las tradiciones y los símbolos?
Tribus urbanas.
- IV. Historia.** ¿Qué grupo conformaba la clase privilegiada y tenía el control económico y político de Nueva España durante el Virreinato?
Los españoles o peninsulares.
- V. Español.** ¿Con cuáles preguntas puedes identificar la información central de una nota periodística?
¿Qué sucedió?, ¿quién participó?, ¿dónde pasó?, ¿cuándo fue?, ¿cómo transcurrió? y ¿por qué y para qué sucedió?





PREGUNTÓMETRO

CONVIVENCIA ESCOLAR 4º

Édgar le dice a Miguel que si quiere seguir siendo su amigo tendrá que acompañarlo con su hermano a consumir bebidas alcohólicas. ¿Qué debe hacer Miguel?

Rechazar la invitación de Édgar y decirle que eso no es saludable y que un buen amigo no obliga ni chantajea a los demás.

PREGUNTÓMETRO 4^o



NIVEL

- I. CN.** ¿Qué hormonas sexuales femeninas se desarrollan a partir de la pubertad y son una pieza clave en la maduración y la reproducción sexual?
Los estrógenos y la progesterona.
- II. Geografía.** ¿Qué nombre recibe un cuerpo de agua dulce, salada o salobre, poco profundo y rodeado por tierra?
Laguna.
- III. Historia.** ¿De cuál puerto zarpó Cristóbal Colón en su primer viaje de exploración hacia la India?
Del Puerto de Palos.
- IV. Español.** En una narración, ¿cuándo se utiliza el discurso indirecto?
Cuando el narrador repite lo que dijo algún personaje de la historia.
- V. Matemáticas.** Encuentra el número que sumado con 382 te da como resultado 1 000.
618





PREGUNTÓMETRO

CONVIVENCIA ESCOLAR 4^o

Describe una situación en la que se demuestra empatía.



Marisol ve que Julián está muy serio y con una expresión de tristeza, entonces ella se acerca para platicar con él, le da un abrazo, le dice que entiende su situación y le ofrece su apoyo.

PREGUNTÓMETRO 4^o



NIVEL

- I. Geografía.** ¿Qué nombre recibe el sistema de referencia geográfica que utiliza el cruce de paralelos y meridianos para determinar una ubicación?
Coordenadas geográficas.
- II. Historia.** ¿Cuál fue el acontecimiento que determinó el fin del periodo Posclásico?
La Conquista de México - Tenochtitlan tomada por los españoles.
- III. Español.** ¿Qué tienes que hacer al declamar un poema?
Decirlo en voz alta, utilizando la entonación adecuada y empleando expresión gestual y corporal para representar las emociones que contiene el poema.
- IV. Matemáticas.** Resuelve en tu cuaderno: Tengo que tomar 2 litros de agua al día. Si durante el día tomo tomo 0.230 l en el desayuno, 0.390 l durante la mañana, 0.525 l en la comida y 0.405 l durante la tarde, ¿cuántos tengo que tomar en la cena para poder alcanzar los 2 litros?
0.45 litros.
- V. CN.** ¿Qué efectos puede tener el calor en algunos materiales?
Puede hacer que cambie su estado físico.





PREGUNTÓMETRO

CONVIVENCIA ESCOLAR 4^o

¿Cuál es una regla del salón? ¿Por qué es importante cumplirla?



Levantar la mano cuando quiero hablar o participar. Es importante porque de esa manera se mejora la comunicación y todos podemos expresar nuestras ideas sin ser interrumpidos.

PREGUNTÓMETRO 4°



NIVEL

I. Historia. Son imágenes plasmadas sobre superficies rocosas que representan actividades cotidianas de nuestros antepasados.

Pinturas rupestres.

I. Español. ¿Qué recursos literarios pueden utilizarse en los refranes? Menciona al menos dos.

La metáfora, la analogía, la rima, los juegos de palabras.

III. Matemáticas. ¿Cuánto es $\frac{3}{7} + \frac{4}{21}$?

$$\frac{13}{21}$$

IV. CN. ¿Qué fenómeno de la luz permite que puedas ver tu imagen reflejada en un espejo o en la superficie del agua?

La reflexión.

V. Geografía. ¿Qué elementos debe contener todo botiquín en caso de un desastre? Menciona algunos.

Gasas esterilizadas, alcohol, algodón, banditas, cinta adhesiva, jabón, vendas, termómetro.





PREGUNTÓMETRO

CONVIVENCIA ESCOLAR 4º

Elena cree que Emiliano no es buena persona porque practica una religión diferente a la suya. ¿Consideras que la actitud de Elena es correcta? ¿Por qué?

No, Elena no debe juzgar a una persona basándose solamente en la religión que practica. Eso sería una forma de discriminación basada en prejuicios.

PREGUNTÓMETRO 4^o



NIVEL

- I. **Español.** ¿Qué tienen en común las palabras **estudiar, estudio, estudiante** y **estudioso**?
Pertenece a la misma familia léxica.
- II. **Matemáticas.** ¿Cómo se le llama a un ángulo cuya medida es de 90° ?
Ángulo recto.
- III. **CN.** ¿Cuál es el elemento fundamental para la supervivencia de los seres vivos?
El agua.
- IV. **Geografía.** ¿Qué nombre recibe la actividad que consiste en la cría de aves domésticas para su aprovechamiento?
Avicultura.
- V. **Historia.** ¿En qué población el cura Miguel Hidalgo convocó a la lucha por la independencia de Nueva España la madrugada del 16 de septiembre de 1910?
En el pueblo de Dolores, Guanajuato.





PREGUNTÓMETRO

CONVIVENCIA ESCOLAR 4^o

Cuando Roberto quiere algo y sus padres no se lo dan, él llora y grita. ¿Consideras que Roberto está manejando sus emociones adecuadamente? Justifica tu respuesta.

No, en vez de portarse así debe aprender a controlar sus emociones y expresar su enojo de otra forma, por ejemplo, hablando con sus padres y explicándoles cómo se siente.

PREGUNTÓMETRO 4^o



NIVEL

I. Matemáticas. Si Javier tiene 3 camisas y 2 pantalones, ¿cuántas combinaciones puede hacer?

6 combinaciones.

II. CN. ¿Qué nombre recibe el conjunto de seres vivos y componentes físicos que se interrelacionan en un mismo lugar?

Ecosistema.

III. Geografía. ¿Qué nombre recibe el tipo de migración en la que no se cruzan límites fronterizos internacionales?

Interna.

IV. Historia. Era el gobernante elegido por el rey como su representante directo en Nueva España.

El virrey.

V. Español. ¿En qué consiste la estrategia de pirámide invertida que utilizan los reporteros para estructurar la información de una nota periodística?

En presentar al inicio del texto la información que se considera más importante y continuar la narración de los hechos en un orden de mayor a menor importancia.






PREGUNTÓMETRO

CONVIVENCIA ESCOLAR 4^o

Menciona una actividad para promover la equidad de género en la escuela.



Distribuir las actividades de forma que tanto los niños como las niñas puedan participar en las tareas para mantener el orden y la limpieza en el salón, así como en las actividades recreativas.

PREGUNTÓMETRO 4^o



NIVEL

- I. **CN.** Son los órganos del aparato sexual masculino en donde se producen los espermatozoides.
Los testículos.
- II. **Geografía.** ¿Cuáles son los dos tipos bosques templados que predominan en México?
Los de coníferas y encinos.
- III. **Historia.** ¿Cuál era el nombre de las embarcaciones en que viajó Colón en su primer viaje de exploración?
La Niña, la Pinta y la Santa María.
- IV. **Español.** ¿Qué signo de puntuación se utiliza para indicar el diálogo de los personajes en una narración?
El guion largo.
- V. **Matemáticas.** Quiero llenar una tina de agua de 15 litros y sólo tengo una cubeta de $\frac{3}{4}$ de litro, ¿cuántas veces tendré que verter el agua de la cubeta a la tina para llenarla?
20 veces.





PREGUNTÓMETRO

CONVIVENCIA ESCOLAR 4^o

¿Por qué el diálogo es la mejor manera de resolver conflictos?



Porque mediante éste es posible expresar nuestras emociones y sentimientos de manera clara y ordenada para que el otro pueda entender mejor nuestra situación y juntos logremos llegar a un acuerdo que beneficie a ambos sin lastimarnos.

PREGUNTÓMETRO 4^o



NIVEL

- I. Geografía.** ¿Cuál es el nombre de los cuatro puntos intermedios de los puntos cardinales?
Noreste, Noroeste, Sureste y Suroeste.
- II. Historia.** ¿Qué nombre recibieron los dos principales centros educativos de los mexicas?
Calmecac y Telpochcalli.
- III. Español.** ¿De qué manera puedes realizar un consumo solidario?
Comprando productos artesanales o que provienen de empresas que tratan a sus empleados de manera justa y que, además, cuidan el ambiente.
- IV. Matemáticas.** Si el área de un rectángulo es de 128 cm^2 y la base mide 16 cm , ¿cuánto medirá la altura?
8 centímetros.
- V. CN.** ¿Qué es la dilatación?
Es el aumento de tamaño que tiene un material cuando se calienta.





PREGUNTÓMETRO

CONVIVENCIA ESCOLAR 4º

A Susana le encanta jugar con la pelota azul y no deja que nadie más la use. Cuando alguien intenta hacerlo ella llora. ¿Consideras que su conducta es adecuada? ¿Cómo puede resolverse este conflicto?

No es adecuada. Susana debe aprender a compartir y a manejar sus emociones. Pueden establecerse turnos para que todos puedan jugar con la pelota.

PREGUNTÓMETRO 4^o



NIVEL

- I. **Historia.** ¿Cuál cereal fue la base de la alimentación de los pueblos Mesoamericanos?
El maíz.
- II. **Español.** ¿Cuál es el mensaje implícito de este refrán? **El que con lobos anda, a aullar se enseña.**
Que podemos adquirir los hábitos y costumbres de las personas con las que nos relacionamos.
- III. **Matemáticas.** Jesús ahorra 130 pesos al mes durante un año, ¿cuánto dinero tiene al finalizar los 12 meses?
1 560 pesos.
- IV. **CN.** ¿Qué color refleja con mayor intensidad la luz?
El color blanco.
- V. **Geografía.** ¿Cuánto tiempo necesita pasar para que un centímetro de suelo degradado vuelva a ser fértil?
Entre 100 y 400 años.

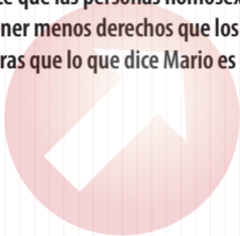




PREGUNTÓMETRO

CONVIVENCIA ESCOLAR 4^o

Mario dice que las personas homosexuales deben tener menos derechos que los demás. ¿Consideras que lo que dice Mario es correcto?



No, la Constitución Política establece que todas las personas gozarán de los derechos humanos y éstos no dependen de las preferencias sexuales (Art. 1^o).

PREGUNTÓMETRO 4°



NIVEL

- I. Español.** ¿Qué nombre recibe el tipo de juego de palabras que implica un enigma y generalmente tiene rima?
Adivinanza.
- II. Matemáticas.** ¿Cómo se le llama a un ángulo que mide 270° ?
Obtuso.
- III. CN.** ¿Cómo se llama el proceso a través del cual los alimentos son sometidos al calor para cambiar sus propiedades?
Cocción.
- IV. Geografía.** ¿Cómo se le denomina a la actividad que consiste en el cuidado y cultivo de los bosques o montes?
Silvicultura.
- V. Historia.** ¿Cuál es el nombre del edificio donde se refugiaron los españoles ante la llegada del ejército insurgente a Guanajuato?
La Alhóndiga de Granaditas.





PREGUNTÓMETRO

CONVIVENCIA ESCOLAR 4^o

En casa de Yolanda es su mamá quien siempre hace el quehacer de la casa y la comida, mientras su papá y sus hermanos ven la televisión. ¿Cuál sería una manera justa de distribuir las tareas del hogar?

Que se asignaran tareas de forma equitativa para que todos los miembros de la familia ayuden en algo y la mamá no tenga que hacer todo sola.

PREGUNTÓMETRO 4^o



NIVEL

- I. Matemáticas.** ¿Cuál es la figura de cuatro lados que se puede formar con la unión de dos triángulos?
Cuadrilátero.
- II. CN.** Menciona una acción que afecte el equilibrio de los ecosistemas.
La desaparición de algunas especies causada por los altos niveles de contaminación.
- III. Geografía.** ¿Cuál es la frontera internacional con mayor intercambio comercial y humano?
La frontera de México con Estados Unidos de América.
- IV. Historia.** ¿Cómo se llamaba la institución europea que regulaba todo el comercio entre España y Nueva España?
Casa de contratación de Sevilla.
- V. Español.** ¿Qué se incluye en la entrada de una nota periodística?
El resumen de los datos del suceso relatado.

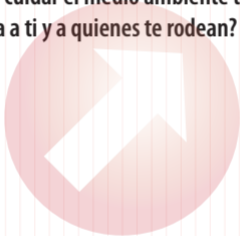




PREGUNTÓMETRO

CONVIVENCIA ESCOLAR 4º

¿Por qué cuidar el medio ambiente te beneficia a ti y a quienes te rodean?



Porque todos formamos parte de este planeta y las acciones que hagamos repercuten en nuestra salud y en nuestra vida.

PREGUNTÓMETRO 4^o



NIVEL

- I. **CN.** Menciona un cambio que ocurre en los caracteres sexuales secundarios femeninos durante la pubertad.
El ensanchamiento de las caderas.
- II. **Geografía.** En nuestro país, ¿dónde se localiza el Sistema Volcánico Transversal?
Atraviesa al país de oeste a este, desde Jalisco hasta Veracruz.
- III. **Historia.** Nombre con el que se le conoce a la mujer que durante la conquista española se convirtió en intérprete, consejera y compañera de Hernán Cortés.
Malinche.
- IV. **Español.** ¿Qué signos de puntuación se deben utilizar para indicar lo que dice un personaje en discurso directo?
Las comillas.
- V. **Matemáticas.** Al encuestar a 10 alumnos sobre su color favorito, las respuestas fueron las siguientes: Azul, azul, verde, rojo, morado, rosa, azul, blanco, negro y rosa. ¿Cuál color es el que más personas prefirieron?
Azul.





PREGUNTÓMETRO

CONVIVENCIA ESCOLAR 4^o

¿Cuáles son tres características de una persona responsable?



Cumple con sus obligaciones. Termina sus actividades a tiempo. Cumple las promesas que hace.

PREGUNTÓMETRO 4^o



NIVEL

- I. Geografía.** ¿Qué elementos conforman la frontera natural de México con Guatemala?
Los ríos Suchiate y Usumacinta y el volcán Tacaná.
- II. Historia.** ¿Cuál fue la técnica agrícola más destacada en Mesoamérica?
La chinampa.
- III. Español.** ¿Cuáles son los elementos que constituyen un anuncio publicitario?
La imagen y el texto.
- IV. Matemáticas.** ¿Cuáles son el cociente y el residuo de la división de 368 entre 9?
El cociente es 40 y el residuo 8.
- V. CN.** ¿Qué es un caleidoscopio?
Es un juguete que funciona con la reflexión de la luz, está compuesto por tres espejos enfrentados que a su vez forman un prisma triangular que permite observar los reflejos de figuras geométricas.






PREGUNTÓMETRO

CONVIVENCIA ESCOLAR 4^o

¿Por qué es importante participar en las actividades escolares y en la toma de decisiones?



Porque así podemos contribuir a mejorar las condiciones de la escuela y si todos participamos será más fácil lograr cambios.

PREGUNTÓMETRO 4^o



NIVEL

- I. **Historia.** Tras la formación de las primeras aldeas, ¿mediante qué actividad se inició el comercio?
Mediante el intercambio de productos o trueque.
- II. **Español.** ¿Qué función tienen los adjetivos y los adverbios en un texto?
Permiten describir con detalle y especificidad a las personas, los animales, los objetos y las situaciones.
- III. **Matemáticas.** ¿Cuál es el área de un terreno rectangular que mide 18 m de largo por 11 m de ancho?
198 m²
- IV. **CN.** ¿Qué tipo de cuerpos o materiales no permiten el paso de la luz?
Los cuerpos opacos.
- V. **Geografía.** ¿Cómo se le llama a un suceso o acontecimiento extraordinario causado por cambios físicos y químicos de la naturaleza?
Fenómeno natural.





PREGUNTÓMETRO

CONVIVENCIA ESCOLAR 4º

Si la fila para comprar en la tiendita de la escuela es muy larga, ¿debes formarte al final de la fila o meterte entre los que ya van a llegar?

Debo formarme al final de la fila porque es una regla que todos debemos respetar. Así doy ejemplo de civismo y respeto a las personas que ya estaban formadas.

PREGUNTÓMETRO 4°



NIVEL

- I. **Español.** Las palabras **Av., fracc., tel.**, son ejemplos de:
Abreviaturas.
- II. **Matemáticas.** ¿Cuántos grados equivale un cuarto de giro?
45°
- III. **CN.** ¿Qué aparato eléctrico retarda la descomposición de los alimentos?
El refrigerador.
- IV. **Geografía.** ¿En qué estados de la República se encuentran los centros mineros más importantes?
En Guanajuato, Zacatecas, Guerrero, Chihuahua, Sonora, Durango y Coahuila.
- V. **Historia.** ¿Quiénes encabezaron el movimiento de independencia de Nueva España a cargo del ejército insurgente?
Miguel Hidalgo e Ignacio Allende.





PREGUNTÓMETRO

CONVIVENCIA ESCOLAR 4^o

Si tienes que trabajar en equipo y uno de los compañeros no comprende lo que debe hacer, ¿es justo enojarse y reclamarle? ¿Por qué?

No es justo. Tampoco es justo que alguien no cumpla con su trabajo por gusto. Pero en este caso, el compañero necesita ayuda. Si puedo, lo ayudo. Ayudar a los compañeros siempre trae beneficios adicionales como nuevos amigos y buenas calificaciones.

PREGUNTÓMETRO 4^o



NIVEL

- I. Matemáticas.** ¿Cómo se les llama a los triángulos que tienen un ángulo de 90° ?
Triángulos rectángulos.
- II. CN.** ¿Cuáles son los últimos organismos en la cadena trófica?
Los organismos descomponedores.
- III. Geografía.** ¿Cuáles son los tres puntos fronterizos estadounidenses con mayor tráfico peatonal proveniente de México?
San Isidro, California; El Paso, Texas; Calexico, California.
- IV. Historia.** ¿Cuáles fueron algunos de los animales introducidos por los españoles a América? Menciona al menos cuatro.
Caballo, res, oveja, cabra y cerdo.
- V. Español.** ¿Qué características debe tener la nota periodística?
Brevedad, claridad y sencillez.






PREGUNTÓMETRO

CONVIVENCIA ESCOLAR 4º

Si recibes ayuda de tus maestros o compañeros para resolver tus dudas, ¿qué debes hacer?



Recordar que la gratitud es más que sólo dar las gracias en el momento en que se recibe la ayuda. Se puede demostrar gratitud siendo recíproco, con un buen comportamiento y cuidando la amistad.

PREGUNTÓMETRO 4^o



NIVEL

- I. CN.** ¿En qué documento se registra el seguimiento de las vacunas que te han aplicado y las próximas que te deberán aplicar?

En la Cartilla Nacional de Vacunación.

- II. Geografía.** ¿Cómo se le conoce al tipo de vegetación arraigada en suelos permanentemente saturados de agua?

Hidrófila.

- III. Historia.** ¿Qué nombre recibió el primer ayuntamiento de América fundado por Hernán Cortés?

La Villa Rica de la Vera Cruz.

- IV. Español.** ¿Cuál es la función de los formularios?

Se utilizan al realizar algún trámite para recopilar los datos de las personas y poder procesarlos posteriormente.

- V. Matemáticas.** En la sucesión **3, 9, 27, 81, 243, ...**, ¿cuál es el número que ocupa el sexto lugar?

729





PREGUNTÓMETRO

CONVIVENCIA ESCOLAR 4^o

Si un grupo de alumnos molesta a un niño que no puede defenderse, ¿qué debes hacer?



Avisar a los maestros para que ellos detengan el conflicto. Cuando no estén los maestros, puedo decirles a los agresores que nos sentimos mal cuando nos molestan. Lo que nunca debo hacer es agredir a los demás.

PREGUNTÓMETRO 4^o



NIVEL

- I. Geografía.** ¿Cuál es el grupo indígena de ascendencia maya que habita en la frontera de México y Guatemala?
Los lacandones.
- II. Historia.** ¿Cuáles son los dos tipos de calendarios que desarrollaron los mesoamericanos?
El solar y el lunar.
- III. Español.** ¿Qué significa que los consumidores tienen derecho a la compensación?
Que el consumidor puede obtener la devolución de su dinero, la disminución del precio o la reparación del producto, si un producto que adquirió no cumple con todo lo que promete.
- IV. Matemáticas.** ¿Cuáles son el perímetro y el área de un rectángulo cuya base mide 12 cm y su altura 20 cm?
El perímetro es igual a 64 cm y el área es igual a 240 cm²
- V. CN.** ¿Cómo se llama el fenómeno físico que se logra al frotar un globo con el cabello para que adquiera la propiedad de atraer cuerpos?
Electrización.






PREGUNTÓMETRO

CONVIVENCIA ESCOLAR 4^o

¿Qué debes hacer cuando tus calificaciones han bajado porque tienes dificultades para aprender un tema?



Darme cuenta de que necesito ayuda y pedirla.
Decirle a mi maestro y también a mis familiares para que sepan que tengo problemas para aprender.
También los compañeros me podrían ayudar.

PREGUNTÓMETRO 4º



NIVEL

- I. Historia.** ¿Cuáles fueron las principales actividades de los habitantes del territorio de Aridoamérica?
Menciona tres.
La caza, la recolección y la pesca.
- II. Español.** ¿Por qué son útiles las ilustraciones en un instructivo?
Porque facilitan la comprensión de las acciones que deben realizarse.
- III. Matemáticas.** Manuel quiere poner pasto en un terreno cuadrado que mide 22 m de lado. ¿Cuántos metros cuadrados de pasto necesita para cubrir toda la superficie?
 484 m^2
- IV. CN.** ¿Qué tipo de eclipse ocurre cuando la Tierra se interpone entre el Sol y la Luna?
Un eclipse lunar.
- V. Geografía.** En México, ¿cuál es el organismo encargado de prevenir y aminorar los efectos de los desastres?
El Centro Nacional de Prevención de Desastres (CENAPRED).

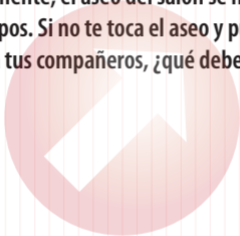




PREGUNTÓMETRO

CONVIVENCIA ESCOLAR 4º

Generalmente, el aseo del salón se hace por equipos. Si no te toca el aseo y puedes ayudar a tus compañeros, ¿qué debes hacer?



Ayudar a los demás para que terminen más rápido. La solidaridad se practica ayudando y colaborando con los demás cuando lo necesitan.

PREGUNTÓMETRO 4^o



NIVEL

I. Español. ¿Qué es un croquis?

Es la representación gráfica de la ruta que se debe seguir para ir de un lugar a otro.

II. Matemáticas. El cuarto de Miguel es cuadrado y mide 5 m de lado. El cuarto de Ivonne es rectangular y mide 6 m de largo por 4 m de ancho. ¿Cuál cuarto tiene mayor superficie?

El cuarto de Miguel.

III. CN. ¿Qué método de conservación consiste en eliminar el mayor contenido de humedad de los alimentos colocándolos sobre el ahumador?

El ahumado.

IV. Geografía. ¿Cómo se le llama el dinero que envían los emigrantes mexicanos a sus familiares?

Remesas.

V. Historia. ¿Quién fue el personaje que continuó la lucha de independencia de México después de la muerte de Hidalgo y Allende? Se le conoció como "El Siervo de la Nación".

José María Morelos y Pavón.






PREGUNTÓMETRO

CONVIVENCIA ESCOLAR 4^o

¿Qué debes hacer si alguien de tu salón te hace sentir mal y no se da cuenta?



Hablar claro con esa persona para que sepa cómo me siento y deje de hacerlo. La comunicación eficiente es la base de la convivencia; los malos entendidos y los problemas entre compañeros muchas veces se dan porque hay mala comunicación.

PREGUNTÓMETRO 4^o



NIVEL

- I. **Matemáticas.** José comienza a trabajar a las 8:30 a.m. y termina a las 4:30 p.m. ¿Cuánto dura su jornada de trabajo?
8 horas.
- II. **CN.** En la siguiente cadena trófica, ¿qué tipo de consumidor es la lechuza? **lechuza - musaraña - lagartija - grillo - hongos.**
Un consumidor terciario.
- III. **Geografía.** ¿Cuál es la entidad del país con menor porcentaje de población urbana?
Chiapas.
- IV. **Historia.** ¿Cuál fue la actividad más importante del Virreinato que logró integrarse al comercio internacional?
La minería.
- V. **Español.** ¿En qué persona gramatical debe redactarse la nota periodística?
En tercera persona del singular o plural.





PREGUNTÓMETRO

CONVIVENCIA ESCOLAR 4^o

Si quieres hacer amigos y uno de tus compañeros te dice que será tu amigo si dices una mentira que afecte a otro compañero, ¿debes aceptar su amistad? Justifica tu respuesta.

No. La amistad es un valor que no acepta condiciones, por lo tanto, es mejor tener pocos amigos que duren para siempre.

PREGUNTÓMETRO 4^o



NIVEL

- I. CN.** ¿Qué acción puedes llevar a cabo todos los días para cuidar tu sistema nervioso?
Dormir un promedio de ocho horas.
- II. Geografía.** ¿Qué nombre recibe la sustancia compuesta por productos derivados de la descomposición de restos orgánicos por hongos y bacterias, localizada en las partes altas de los suelos?
Humus.
- III. Historia.** ¿Cómo se le conoce al episodio en que los españoles fueron derrotados por los mexicas durante la Conquista?
La noche triste.
- III. Español.** ¿Qué función tienen las siglas?
Nos permiten identificar de manera visual y rápida las instituciones u organizaciones.
- V. Matemáticas.** ¿Cómo se obtiene el siguiente término de una sucesión geométrica?
Multiplicando el elemento anterior por una constante multiplicativa.





PREGUNTÓMETRO

CONVIVENCIA ESCOLAR 4º

Si en la escuela los niños se burlan de un compañero porque sus costumbres y su vestimenta son diferentes a las de los demás y te piden que tú también lo hagas, ¿te burlarías de él? Justifica tu respuesta.

Definitivamente evitaría burlarme. Pensaría cómo debe sentirse él y que no me gustaría sentir lo mismo. Es decir, sería empático. Siendo empático con los demás doy y recibo un buen trato.

PREGUNTÓMETRO 4^o



NIVEL

- I. **Geografía.** ¿Cómo se llama el grupo indígena mexicano que habita en el estado de Chihuahua?
Tarahumaras o rarámuris.
- II. **Historia.** ¿Qué tipo de religión practicaban las culturas mesoamericanas?
Politeísta.
- III. **Español.** ¿Por qué es importante revisar las etiquetas de los productos antes de comprarlos?
Para obtener información completa, clara y veraz sobre los productos y evaluar cuál es el que más se adecua a nuestras necesidades.
- IV. **Matemáticas.** Si el perímetro de un cuadrado es igual a 40 cm, ¿cuál será el área de este mismo cuadrado?
100 cm²
- V. **CN.** ¿Cuánto tiempo tarda el movimiento de traslación de la Tierra?
365 días.





PREGUNTÓMETRO

CONVIVENCIA ESCOLAR 4^o

Estás en casa y aún no haces la tarea cuando tus amigos te invitan a jugar. ¿Qué debes hacer para cumplir con tus deberes y no perderte la actividad con tus amigos?

Como tengo claro que la prioridad es la tarea, la haría cuanto antes y estaría listo para cuando mis amigos me inviten a jugar. El orden y la disciplina son la clave. Incluso me puede sobrar tiempo para divertirme en otras cosas.

PREGUNTÓMETRO 4^o



NIVEL

- I. Historia.** ¿Cómo se le llama al área cultural del México antiguo que se caracterizaba por tener un territorio semiárido, clima caluroso y algunas zonas con agua que permitieron la agricultura?
Oasisamérica.
- II. Español.** ¿En qué forma se encuentran los siguientes verbos: limpiar, recortar, pegar, dibujar?
En infinitivo.
- III. Matemáticas.** Eduardo trabaja en una tienda de estuches para celulares, recibe a la semana 500 pesos de sueldo más 15 pesos por cada estuche vendido. Si en 8 semanas vendió 100 estuches, ¿cuánto ganó en total en las 8 semanas?
5 500 pesos.
- IV. CN.** ¿Cuáles son los tres tipos de eclipse solar que existen?
Totales, parciales y anulares.
- V. Geografía.** ¿Qué es una zona de riesgo?
Es un lugar vulnerable a un desastre, ya sea natural o provocado por el hombre.

