



# PREGUNTÓMETRO

## CONVIVENCIA ESCOLAR 3º

**Paco está triste y llora porque no encuentra a su mascota. Algunos de sus compañeros se burlan de él y le dicen que los hombres no deben llorar. ¿Es correcto lo que hacen sus compañeros? Explica por qué.**

No es correcto, porque todas las personas tienen derecho a expresar sus emociones. Sus amigos en vez de burlarse deben entenderlo y brindarle su apoyo.

# PREGUNTÓMETRO 3º



## NIVEL

- I. **Español.** Es una forma verbal que utilizamos para escribir reglamentos.  
El infinitivo.
- II. **Matemáticas.** ¿Cuál es el resultado de la siguiente operación  $355 - 10 = ?$   
345
- III. **CN.** ¿Cuál es el instrumento que se utiliza para medir la **masa** de los objetos?  
La balanza.
- IV. **EDV.** ¿En qué año se inició el movimiento de Independencia de México?  
En 1810.
- V. **Español.** ¿Cuál es el objetivo de las adivinanzas?  
Describir un objeto, fruta o animal para que alguien lo adivine.






# PREGUNTÓMETRO

## CONVIVENCIA ESCOLAR 3º

**Daniela está molesta con Javier porque él tomó su cuaderno sin su permiso. ¿Qué debe hacer?**



Hablar con Javier para expresar sus emociones tranquilamente y decirle de manera clara y directa que no lo vuelva a hacer porque tomar las cosas sin permiso es una falta de respeto y la hace sentir mal.

# PREGUNTÓMETRO 3°



## NIVEL

- I. Matemáticas.** En el número 5 260, ¿cuál es el número que ocupa la posición de las centenas?  
El 2 ocupa la posición de centenas.
- II. CN.** ¿Cómo se llaman los organismos capaces de producir su propio alimento?  
Autótrofos.
- III. EDV.** ¿Cuáles son los nombres de las tres carabelas de la tripulación de Colón?  
La Niña, La Pinta y La Santa María.
- IV. Español.** ¿Para qué usamos las palabras **primero**, **después** y **finalmente** al elaborar los pasos de un proceso?  
Para señalar el orden temporal de las acciones que deben realizarse.
- V. Matemáticas.** ¿Cuántas botellas de  $\frac{1}{4}$  de litro de agua se necesitan para llenar una pecera con capacidad para 4 litros?  
16 botellas.






# PREGUNTÓMETRO

## CONVIVENCIA ESCOLAR 3°

**¿Qué acciones puedes llevar a cabo para mejorar la convivencia en tu escuela?  
Menciona dos.**



Ser amable y pedir las cosas por favor. Respetar los turnos al hablar. No discutir.

# PREGUNTÓMETRO 3º



## NIVEL

- I. CN.** ¿Qué sistemas se involucran al realizar un movimiento, como pararte de manos?  
Óseo, muscular y nervioso.
- II. EDV.** ¿Cómo se llamaban las dos áreas culturales y geográficas en las que estaba dividido México en épocas prehispánicas?  
Aridoamérica y Mesoamérica.
- III. Español.** En una revista científica, ¿dónde puedes consultar cuántos artículos tiene, qué temas aborda y en cuáles páginas se encuentran?  
En el índice.
- IV. Matemáticas.** ¿Cómo se llaman las fracciones que, aunque se representen de manera diferente, tienen el mismo valor?  
Fracciones equivalentes.
- V. CN.** ¿Cómo se llama el movimiento que realiza la Luna sobre su propio eje?  
De rotación.






# PREGUNTÓMETRO

## CONVIVENCIA ESCOLAR 3º

En el salón de Daniel deben escoger un jefe de grupo que los represente. ¿Cuál es una forma de elegirlo democráticamente?



Hacer una votación y nombrar a la persona que obtenga más votos.

# PREGUNTÓMETRO 3°



## NIVEL

- I. EDV.** ¿Cuál es el nombre oficial del país donde vivimos?  
Estados Unidos Mexicanos.
- II. Español.** ¿Cuál es la utilidad de un folleto?  
Dar a conocer un producto, servicio o información.
- III. Matemáticas.** ¿Cuáles son las partes que componen una fracción?  
Numerador y denominador.
- IV. CN.** Es un agente capaz de modificar el estado de movimiento o reposo de un objeto o su forma.  
Fuerza.
- V. EDV.** ¿A cuántos años equivale un lustro?  
5 años.







# PREGUNTÓMETRO

## CONVIVENCIA ESCOLAR 3º

**Cada vez que Marcela se enoja, se queda callada e ignora a todos. ¿Consideras que ella está haciendo un buen manejo de sus emociones?**

No, porque quedarse callada no contribuye a expresar sus sentimientos ni a resolver la situación que la hace enojar.

# PREGUNTÓMETRO 3º



## NIVEL

**I. Español.** ¿Cuáles son algunas funciones de los reglamentos?

Mantener el orden y regular el uso de un servicio.

**II. Matemáticas.** ¿Cuál es el resultado de la siguiente operación  $225 + 35 = ?$

260

**III. CN.** ¿Qué es la masa?

Es la cantidad de materia que contiene un cuerpo.

**IV. EDV.** ¿En qué fecha inició la Revolución Mexicana?

20 de noviembre de 1910.

**V. Español.** ¿Cómo se llaman este tipo de textos:

**Chiquito como un ratón, cuida la casa como un león?**

Adivinanzas.





# PREGUNTÓMETRO

## CONVIVENCIA ESCOLAR 3º

**Sin consultar a sus amigos, Cristina ha decidido que todos tendrán que darle \$5 a la semana y a cambio ella comprará chocolates. Luisa, Ana y Juan no están de acuerdo porque no les gustan los chocolates. ¿Qué deben hacer ante esta situación?**

Decirle a Cristina que antes de tomar una decisión debe consultarlos para que puedan llegar a un acuerdo que le convenga a la mayoría.

# PREGUNTÓMETRO 3º



## NIVEL

- I. Matemáticas.** ¿Cuál es la descomposición según el valor posicional del número 654?  
 $600 + 50 + 4$
- II. CN.** ¿Qué tipo de alimentación tienen los organismos omnívoros?  
Heterótrofa.
- III. EDV.** ¿Cómo se llama el periodo en el que los españoles sometieron a los indígenas por medio de las armas?  
La Conquista.
- IV. Español.** ¿Qué forma verbal se suele utilizar para explicar procesos de elaboración?  
La forma impersonal.
- V. Matemáticas.** Un rectángulo dividido en dos partes iguales tiene una de sus partes sombreada, si se tiene otro rectángulo de la misma medida pero está dividido en 8 partes iguales, ¿cuántas de sus partes deben sombrarse para que sea equivalente a la parte sombreada del primer rectángulo?  
 $\frac{4}{8}$  o 4 partes.





# PREGUNTÓMETRO

## CONVIVENCIA ESCOLAR 3º

José, Claudia y Alejandro están en un equipo para realizar un proyecto de Español. José termina haciendo todo el trabajo porque a Alejandro y a Claudia se les olvidó. ¿Es justa esta situación? ¿Por qué?

No es justa, porque si es un trabajo en equipo todos deben colaborar. Es injusto que una sola persona haga lo que le corresponde a los demás.

# PREGUNTÓMETRO 3º



## NIVEL

- I. **CN.** ¿Cuáles son las estructuras más duras de nuestro cuerpo que brindan soporte y protección?  
Los huesos.
- II. **EDV.** Lugares que utilizaban los grupos nómadas para protegerse del frío y la lluvia.  
Cuevas.
- III. **Español.** ¿Por qué los artículos científicos son textos expositivos?  
Porque explican, ejemplifican y describen.
- IV. **Matemáticas.** ¿Cómo se les llama a las fracciones que se componen de una parte entera y una fracción?  
Fracciones mixtas.
- V. **CN.** Es la característica del sonido que depende de las propiedades físicas de la fuente.  
El timbre.





# PREGUNTÓMETRO

## CONVIVENCIA ESCOLAR 3º

Rodrigo se tropieza al entrar al salón de clases y se lastima la rodilla, sus compañeros se ríen de él. ¿Es correcto lo que hicieron? ¿Por qué?

No es correcto, porque en vez de burlarse deberían ayudarlo a sentirse mejor, y al reírse sólo están contribuyendo a que él se sienta más avergonzado.

# PREGUNTÓMETRO 3°



## NIVEL

- I. EDV.** ¿Cuántas entidades federativas tiene México?  
32
- II. Español.** ¿En qué libro puedes consultar el significado de una palabra que no conoces?  
En el diccionario.
- III. Matemáticas.** ¿Cómo se le llama al número que determina la cantidad con la que aumenta o disminuye una sucesión?  
Constante.
- IV. CN.** Verdadero o falso: Sabemos que una fuerza interactuó con un objeto si se interrumpe su estado de reposo.  
Verdadero.
- V. EDV.** ¿Qué dependencia se creó en 1921 para iniciar una campaña de alfabetización?  
La Secretaría de Educación Pública.







# PREGUNTÓMETRO

## CONVIVENCIA ESCOLAR 3°

**Mireya quiere que sus compañeros piensen igual que ella y que tengan sus mismos gustos, cuando eso no pasa, ella se enoja y se siente ofendida. ¿Consideras que Mireya está actuando correctamente?**

No, porque ella debe aprender a ser tolerante y entender que las diferencias de opinión se deben respetar. El hecho de que otros tengan gustos diferentes a los suyos no quiere decir que estén en su contra, o que sean mejores o peores.

# PREGUNTÓMETRO 3°



## NIVEL

**I. Español.** ¿A qué lugar pertenece la siguiente regla:  
**Presentar credencial de usuario para solicitar el préstamo del material?**

A una biblioteca.

**II. Matemáticas.** ¿Cuál es el color de la bandera de México que está más cerca del asta?

El color verde.

**III. CN.** ¿Cuál es la unidad más común para medir la masa?

El kilogramo.

**IV. EDV.** ¿En qué documento se establece que la República Mexicana es federal y laica?

En la Constitución Política de los Estados Unidos Mexicanos.

**V. Español.** ¿De qué tema es la siguiente adivinanza:  
**Blanca por dentro, verde por fuera. Si quieres que te lo diga espera?**

De frutas y alimentos.






# PREGUNTÓMETRO

## CONVIVENCIA ESCOLAR 3º

**Al salir de la escuela te encuentras una cartera tirada, con dinero e identificaciones personales de su dueño. ¿Qué debes hacer?**



Llevarla a la Dirección para intentar localizar a su dueño y entregársela.

# PREGUNTÓMETRO 3°



## NIVEL

**I. Matemáticas.** Fidel recibió la cantidad de \$886, ¿cuántos billetes y monedas recibió considerando que todos son de distinto valor?

Un billete de \$500, uno de \$200, uno de \$100, uno de \$50, uno de \$20, una moneda de \$10, una \$5 y una de \$1.

**II. CN.** ¿Cómo se les llama a las membranas externas mediante las cuales animales como los peces, moluscos y crustáceos absorben el oxígeno del agua y desechan el dióxido de carbono?

Branquias.

**III. EDV.** ¿En qué año inició el Virreinato de Nueva España?

En 1535.

**IV. Español.** ¿Qué recurso gráfico puedes utilizar para representar el orden de los pasos de un proceso de elaboración?

Un diagrama.

**V. Matemáticas.** ¿Qué sucede cuando se realiza una suma o resta de fracciones con un mismo denominador?

El denominador conserva su valor y sólo se suman o restan los numeradores.






# PREGUNTÓMETRO

## CONVIVENCIA ESCOLAR 3º

**Priscila cree que todas las niñas son débiles y por eso no deben jugar futbol. ¿Qué piensas de esto?**



Que su opinión se basa en prejuicios y estereotipos de género. Porque las mujeres también pueden jugar futbol si así lo desean.

# PREGUNTÓMETRO 3º



## NIVEL

- I. Español.** ¿Qué signo se emplea en un chiste para indicar un diálogo?  
El guion largo.
- II. Matemáticas.** ¿Cuál letra del alfabeto se encuentra a la misma distancia de la **a** y la **z**?  
La "n".
- III. CN.** ¿A cuántos litros equivale **1 dm<sup>3</sup>**?  
A 1 litro.
- IV. EDV.** ¿Cómo se llamó al tipo de tienda donde los campesinos y los obreros realizaban sus compras durante el Porfiriato?  
Tiendas de raya.
- V. Español.** ¿Qué características tienen las adivinanzas?  
Son textos breves, con rima, juegos de palabras o metáforas que tienen como objetivo presentar un acertijo.





# PREGUNTÓMETRO

## CONVIVENCIA ESCOLAR 3º

¿Qué es el *bullying* y cómo afecta a las personas?



El *bullying* es cuando uno o varios compañeros molestan o agreden constantemente a otros. Esto afecta a la víctima porque daña su integridad física o psicológica.

# PREGUNTÓMETRO 3º



## NIVEL

- I. **Matemáticas.** ¿Cuál es el resultado de multiplicar 8 x 1 000?  
8 000
- II. **CN.** ¿Cómo se llama el conjunto de tubos que se conectan al exterior por medio de los poros, y mediante los cuales respiran los insectos?  
Tráqueas.
- III. **EDV.** Nombre que recibió la enseñanza de la religión católica a los pobladores indígenas.  
Evangelización.
- IV. **Español.** Menciona uno de los usos de las mayúsculas.  
Después de un punto y seguido o de un punto y aparte.
- V. **Matemáticas.** Si se reparten 56 flores entre 8 personas, ¿cuántas flores les toca a cada una?  
7 flores.








# PREGUNTÓMETRO

## CONVIVENCIA ESCOLAR 3º

¿Qué significa la frase “El respeto al derecho ajeno es la paz”?



Que la convivencia pacífica se basa en respetar los derechos de los demás.

# PREGUNTÓMETRO 3º



## NIVEL

- I. CN.** ¿Cómo se le llama al punto en el que se unen dos o más huesos?  
Articulación.
- II. EDV.** ¿Qué platillo típico tiene origen en los grupos prehispánicos?  
Pozole, tamales.
- III. Español.** En ellas se encuentran artículos que dan a conocer de forma precisa y sustentada descubrimientos o explicaciones de sucesos, fenómenos u objetos.  
Las revistas científicas.
- IV. Matemáticas.** ¿Qué fracción en cuartos es equivalente a  $\frac{1}{2}$ ?  
 $\frac{2}{4}$
- V. CN.** ¿Cómo se llama el movimiento que realiza la Luna alrededor de la Tierra?  
De traslación.





# PREGUNTÓMETRO

## CONVIVENCIA ESCOLAR 3º

**Enrique no está de acuerdo con la organización de las tareas de grupo que propuso Martín. Enrique decide hablar con Martín para expresar su inconformidad y proponer una nueva forma de trabajo. ¿Es correcto lo que hizo Enrique? ¿Por qué?**

Sí, porque en vez de alterarse o quedarse callado buscó solucionar el conflicto mediante el diálogo.

# PREGUNTÓMETRO 3º



## NIVEL

- I. **EDV.** ¿Cómo se le llama al tipo de terreno con poca inclinación localizado entre las montañas?  
Valle.
- II. **Español.** ¿Cuál de las siguientes palabras no forma parte de la familia léxica: **nutritivo, nutrición, vitamina, nutriente**?  
Vitamina.
- III. **Matemáticas.** ¿Qué representan las fracciones?  
Una parte de un entero dividido en partes iguales.
- IV. **CN.** Verdadero o falso: Un hombre aplica fuerza al nadar del punto A al punto B.  
Verdadero.
- V. **EDV.** ¿Cómo se llama el fenómeno social que sucede cuando un grupo de personas cambia de residencia temporal o definitivamente?  
Migración.






# PREGUNTÓMETRO

## CONVIVENCIA ESCOLAR 3°

**Gabriel quiere mejorar su promedio de calificaciones este año. ¿Qué puede hacer para cumplir su meta?**



Cumplir con sus tareas, poner atención en clase y estudiar regularmente.

# PREGUNTÓMETRO 3º



## NIVEL

- I. Español.** Este tipo de discurso se emplea en los chistes para contar lo que dijo alguien más.  
Discurso indirecto.
- II. Matemáticas.** Mariela tiene 8 años y es la menor de sus cinco hermanos. Si la diferencia de edad entre cada uno es de tres años, ¿cuántos años tiene el hermano mayor?  
Tiene 20 años.
- III. CN.** ¿Cómo se le conoce al espacio que ocupan los objetos?  
Volumen.
- IV. EDV.** Forma de gobierno que defendía el partido conservador.  
Monarquía.
- V. Español.** ¿Qué recurso emplea la siguiente adivinanza, una metáfora o juego de palabras?  
**Agua pasa por mi casa, cate por mi corazón.**  
Juego de palabras.





# PREGUNTÓMETRO

## CONVIVENCIA ESCOLAR 3º

**Paola y su equipo están exponiendo un tema en la clase de Historia, sin embargo, Leo los interrumpe constantemente y no espera su turno para hablar. ¿Es correcto lo que hace Leo?, ¿cómo afecta su comportamiento a los demás?**

No es correcto. Afecta a los demás porque no los deja expresarse y no espera el momento que cada quien debe tener para hablar, por lo tanto está cometiendo una falta de respeto.

# PREGUNTÓMETRO 3º



## NIVEL

- I. Matemáticas.** Imelda tenía \$2 500 pero gastó \$170 en una muñeca, ¿cuánto dinero le sobró?  
\$2 330
- II. CN.** ¿Qué animales acuáticos utilizan las mismas estructuras para respirar que los humanos?  
Las ballenas y los delfines.
- III. EDV.** Periodo histórico de México de dominio español que duró 300 años.  
La Colonia.
- IV. Español.** ¿Cuál es uno de los usos de la coma?  
Separar distintos elementos o características en listas o enumeraciones.
- V. Matemáticas.** ¿Qué sucede con el cociente de una división cuando el dividendo aumenta y el divisor es el mismo?  
El cociente aumenta.







# PREGUNTÓMETRO

## CONVIVENCIA ESCOLAR 3°

**Marco está muy enojado con Ernesto porque le dice un apodo que no le gusta. ¿Cómo pueden resolver este conflicto de manera pacífica?**

Mediante el diálogo. Marco debe decirle a Ernesto que no le gusta que lo llamen de ese modo y explicarle que eso es importante para llevar una relación cordial.

# PREGUNTÓMETRO 3º



## NIVEL

- I. CN.** ¿Qué nutrientes aportan energía al cuerpo y se pueden encontrar en cereales, tubérculos y frutas?  
Los carbohidratos.
- II. EDV.** ¿Por dónde cruzaron los primeros pobladores del continente americano desde Asia?  
Por el estrecho de Bering.
- III. Español.** ¿En cuál de los siguientes tipos de texto se utiliza el lenguaje literal: **cuentos**, **artículos científicos** o **poemas**?  
En los artículos científicos.
- IV. Matemáticas.** ¿Cómo se llama el ángulo que mide 180°?  
Ángulo llano.
- V. CN.** ¿De qué manera aprovechaban los mayas las diferentes fases de la Luna?  
Les servían como una guía para medir el tiempo y calcular el momento idóneo para llevar a cabo ciertas actividades.





# PREGUNTÓMETRO

## CONVIVENCIA ESCOLAR 3º

¿Cuáles son algunas formas de ser honesto?



Decir siempre la verdad. Cumplir lo que prometo.  
Expresar lo que siento. Tomar sólo lo que me pertenece.

# PREGUNTÓMETRO 3°



## NIVEL

- I. EDV.** ¿Qué nombre recibe el grupo de personas que comparten gobierno, historia, territorio e idioma?  
Población.
- II. Español.** ¿Para qué sirve un diagrama en la elaboración de un folleto?  
Organiza la información que contendrá el folleto.
- III. Matemáticas.** Si una pizza está dividida en 12 rebanadas, ¿cuál es el valor de cada una de las rebanadas?  
 $\frac{1}{12}$
- IV. CN.** ¿Cuál es el único satélite natural de la Tierra?  
La Luna.
- V. EDV.** Según lo establecido en el Artículo 3° de la Constitución, ¿cómo debe ser la educación en México?  
Laica y gratuita.





# PREGUNTÓMETRO

## CONVIVENCIA ESCOLAR 3º

¿Qué es el respeto?



El respeto es el valor que hace referencia a tratar bien a las personas y tener consideración con ellas.

# PREGUNTÓMETRO 3º



## NIVEL

I. **Español.** ¿Cuál es el tipo de discurso que emplea el siguiente chiste?

—**Pepito, dime cinco cosas que contengan leche.**

—**Cinco vacas, maestra.**

Discurso directo.

II. **Matemáticas.** ¿Qué unidad de medida es la más adecuada para medir la distancia entre dos ciudades?

El kilómetro.

III. **CN.** ¿Para qué se utilizan los metros cúbicos?

Para medir el volumen de los cuerpos.

IV. **EDV.** ¿Cuál país europeo invadió el territorio mexicano para apoyar la toma de poder de Maximiliano de Habsburgo como emperador?

Francia.

V. **Español.** Explica el juego de palabras que se utiliza en la siguiente adivinanza: **Te la digo y no me entiendes, te la repito y no me comprendes, ¿qué será? La tela.**

Al unir las sílabas “te” y “la” se deduce que la respuesta es tela.

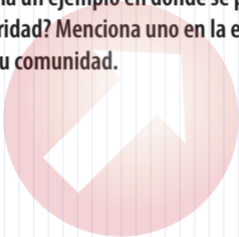




# PREGUNTÓMETRO

## CONVIVENCIA ESCOLAR 3º

**¿Cuál sería un ejemplo en donde se practica la solidaridad? Menciona uno en la escuela y otro en tu comunidad.**



En la escuela: ayudar a los compañeros a mantener limpio el salón. En la comunidad: ayudar a un adulto mayor a cruzar la calle.

# PREGUNTÓMETRO 3<sup>o</sup>



## NIVEL

- I. Matemáticas.** Andrés tiene \$250 y quiere comprar una lámpara que le cuesta \$480, ¿cuánto dinero le falta?  
\$230
- II. CN.** Es la primera fase para procesos de reciclaje y reúso y es una práctica que debemos hacer al desechar la basura.  
Separar la basura en orgánica e inorgánica.
- III. EDV.** ¿Quién fue el conquistador de México-Tenochtitlan?  
Hernán Cortés.
- IV. Español.** ¿Qué palabras puedes utilizar para describir las características y las acciones de los personajes de un cuento?  
Los adjetivos y los adverbios.
- V. Matemáticas.** ¿Qué sucede con el cociente de una división cuando el dividendo no cambia y el divisor aumenta?  
El cociente disminuye.







# PREGUNTÓMETRO

## CONVIVENCIA ESCOLAR 3º

**Mientras jugaban en el patio, Julieta empujó a Mónica sin querer, Mónica se cayó y comenzó a llorar. ¿Cómo pueden resolver este conflicto pacíficamente?**

Julieta debe disculparse con Mónica, explicarle que fue un accidente y ofrecerle su ayuda.

# PREGUNTÓMETRO 3º



## NIVEL

- I. **Español.** Son los signos que se emplean para expresar asombro, alegría, enojo o queja.  
Los signos de admiración.
- II. **Matemáticas.** ¿Cuál unidad de medida es la más adecuada para medir un lápiz?  
El centímetro.
- III. **CN.** ¿Cuál es el aparato que se utiliza para medir la temperatura?  
El termómetro.
- IV. **EDV.** ¿Qué institución era la encargada de la educación antes de las Leyes de Reforma?  
La Iglesia.
- V. **Español.** ¿Dónde hay comparación en la siguiente adivinanza? **Soy blanca como la nieve y dulce como la miel; yo alegro los pasteles y la leche con café.**  
Blanca como la nieve, dulce como la miel.





# PREGUNTÓMETRO

## CONVIVENCIA ESCOLAR 3º

**Xóchitl es nueva en la escuela, ella viene de una comunidad indígena y habla náhuatl. Algunos de sus compañeros se burlan de ella por su tono de piel y su forma de hablar. ¿Por qué es incorrecto lo que hacen sus compañeros?**

Porque es una falta de respeto que demuestra actitudes racistas hacia ella. Como mexicanos debemos valorar nuestras raíces y aprender a convivir de manera justa y armónica.

# PREGUNTÓMETRO 3º



## NIVEL

**I. Matemáticas.** ¿Con cuáles números al multiplicarlos se obtiene como producto 16?

$1 \times 16, 2 \times 8, 4 \times 4$

**II. CN.** ¿Qué es la composta?

Es una manera de usar los desechos orgánicos para elaborar abono.

**III. EDV.** ¿Qué animales trajeron los españoles al continente americano?

Borregos, cerdos, caballos, vacas.

**IV. Español.** ¿Qué tipo de palabras son **bella**, **atemorizante** y **feliz**?

Adjetivos.

**V. Matemáticas.** ¿Cuáles son las divisiones que comprueban el resultado de la multiplicación

$6 \times 9 = 54$ ?

$54 \div 9 = 6$  y  $54 \div 6 = 9$





# PREGUNTÓMETRO

## CONVIVENCIA ESCOLAR 3º

**Cuando Paty no está de acuerdo con Salvador, ella le grita y lo agrede.**

**¿Es correcto lo que hace Paty?, ¿cuál es la mejor manera de actuar ante esta situación?**

No es correcto, al reaccionar así ella está siendo irrespetuosa. Lo que debe hacer es encontrar una solución mediante el diálogo, sin violencia verbal ni física.

# PREGUNTÓMETRO 3º



## NIVEL

- I. **CN.** ¿Qué nutrimentos aportan energía al cuerpo, se encuentran en los aceites y en exceso producen sobrepeso y daños al organismo?  
Las grasas.
- II. **EDV.** Son narraciones de hechos reales que se mezclan con seres o sucesos fantásticos.  
Las leyendas.
- III. **Español.** ¿Qué elementos tienen los artículos científicos?  
Título, subtítulos, ilustraciones, fotografías y bibliografía.
- IV. **Matemáticas.** ¿Cuál fracción es mayor:  $\frac{1}{3}$  o  $\frac{1}{9}$ ?  
 $\frac{1}{3}$
- V. **CN.** ¿Qué nombre recibe el fenómeno de la propagación de las vibraciones en el medio?  
Onda.






# PREGUNTÓMETRO

## CONVIVENCIA ESCOLAR 3º

**¿Cuáles son algunas acciones que ayudan a combatir la corrupción?**



No dar dinero o intercambiar favores para obtener un beneficio (no sobornar). Pagar impuestos.  
Cumplir con la ley.

# PREGUNTÓMETRO 3º



## NIVEL

- I. EDV.** Es una corriente de agua que desemboca en otra superficie de agua más grande.  
Río.
- II. Español.** ¿Qué características tienen los poemas?  
Se escriben en verso, usan rimas, expresan sentimientos y utilizan metáforas u otras figuras retóricas.
- III. Matemáticas.** ¿Cuál es la constante en la siguiente sucesión: **5, 15, 25, 35, ...?**  
10
- IV. CN.** Verdadero o falso: El sonido puede viajar a través de los materiales sólidos.  
Verdadero.
- V. EDV.** ¿Qué es el patrimonio cultural?  
Es el conjunto de manifestaciones artísticas, tradiciones, costumbres y construcciones que forman parte de la herencia cultural de una comunidad.







# PREGUNTÓMETRO

## CONVIVENCIA ESCOLAR 3°

**Joaquín usa silla de ruedas porque no puede caminar. Él va a pasar a 3° de primaria y el único acceso para llegar a ese salón es por las escaleras. ¿Qué pueden hacer en la escuela para facilitar el acceso de Joaquín a su salón?**

Construir una rampa o destinar para 3° un salón cuyo acceso no tenga escaleras.

# PREGUNTÓMETRO 3º



## NIVEL

**I. Español.** ¿Para qué sirven los signos de interrogación?

Para indicar una pregunta.

**II. Matemáticas.** ¿Cuál es unidad de medida más adecuada para calcular la altura de un edificio?

El metro.

**III. CN.** ¿Cómo se le conoce a los objetos que impiden el paso de la luz y proyectan una sombra bien definida?

Objetos opacos.

**IV. EDV.** ¿Qué ideología era la que defendía Benito Juárez?

Liberal.

**V. Español.** ¿Qué son los remedios caseros?

Son preparaciones hechas con hierbas o ingredientes que regularmente se tienen en casa, sirven para aliviar algún padecimiento o malestar.






# PREGUNTÓMETRO

## CONVIVENCIA ESCOLAR 3°

La educación es uno de tus derechos. ¿Cuál es tu obligación que corresponde a ese derecho?



Estudiar, hacer la tarea y llegar a tiempo a la escuela.

# PREGUNTÓMETRO 3°



## NIVEL

- I. Matemáticas.** Rosa compró 15 helados, si cada uno le costó \$6, ¿cuánto pagó en total?  
\$90
- II. CN.** ¿Cómo se le llama al proceso que consiste en convertir desechos en nuevos productos?  
Reciclaje.
- III. EDV.** Enfermedad que trajeron los españoles y provocó la muerte de muchos indígenas.  
Viruela.
- IV. Español.** Menciona tres adverbios.  
Tiernamente, rápidamente, ferozmente.
- V. Matemáticas.** Para igualar 1 litro de pintura se necesitan 6 colores diferentes en la misma proporción, ¿a qué fracción equivale cada color?  
 $\frac{1}{6}$

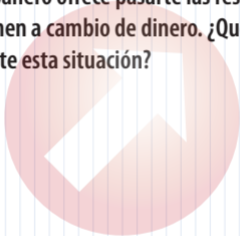




# PREGUNTÓMETRO

## CONVIVENCIA ESCOLAR 3º

**Un compañero ofrece pasarte las respuestas del examen a cambio de dinero. ¿Qué debes hacer ante esta situación?**



Decirle que no y explicarle que está cometiendo un acto de corrupción y deshonestidad al que tú no piensas contribuir.

# PREGUNTÓMETRO 3°



## NIVEL

**I. CN.** ¿Cuáles son los pasos generales del proceso de nutrición que le siguen a la ingestión y digestión de alimentos?

La absorción y transporte de nutrimentos, y la eliminación de desechos.

**II. EDV.** ¿Qué armas utilizaban los primeros pobladores de América para cazar animales?

Lanzas y arcos y flechas.

**III. Español.** ¿En qué persona gramatical está escrito un relato autobiográfico?

En primera persona.

**IV. Matemáticas.** ¿Cuánto se debe pagar por 30 galletas si el paquete de 5 cuesta \$8?

\$48

**V. CN.** ¿Cuáles son los tres grupos de alimentos que presenta el Plato del Bien comer?

Verduras y frutas, cereales, y leguminosas y alimentos de origen animal.





# PREGUNTÓMETRO

## CONVIVENCIA ESCOLAR 3º

**Édgar le dice a Miguel que si quiere seguir siendo su amigo tendrá que acompañarlo con su hermano a consumir bebidas alcohólicas. ¿Qué debe hacer Miguel?**

Rechazar la invitación de Édgar y decirle que eso no es saludable y que un buen amigo no obliga ni chantajea a los demás.

# PREGUNTÓMETRO 3º



## NIVEL

- I. EDV.** Nombre que reciben los animales que habitan en un ecosistema o región geográfica.  
Fauna.
- II. Español.** ¿En qué tipo de escritos se emplea el lenguaje figurado?  
En las canciones, los poemas y los cuentos.
- III. Matemáticas.** ¿Cuál es el orden que debe tener una sucesión de números ascendente?  
De menor a mayor.
- IV. CN.** ¿Con qué característica del sonido podemos definir si la voz de una persona es grave o aguda?  
Con el tono.
- V. EDV.** Problema ambiental provocado por el comercio de madera que tiene como consecuencia la pérdida del hábitat natural y la erosión del suelo.  
Deforestación.








# PREGUNTÓMETRO

## CONVIVENCIA ESCOLAR 3°

**Describe una situación en la que se demuestra empatía.**



Marisol ve que Julián está muy serio y con una expresión de tristeza, entonces ella se acerca para platicar con él, le da un abrazo, le dice que entiende su situación y le ofrece su apoyo.

# PREGUNTÓMETRO 3°



## NIVEL

- I. **Español.** ¿Cuántas sílabas tiene la palabra biblioteca?  
4 (bi-blio-te-ca).
- II. **Matemáticas.** ¿Cuáles son las herramientas que se utilizan para brindar información numérica y puede ser producto de una encuesta?  
Las gráficas.
- III. **CN.** ¿Qué sucede con el agua cuando la sometemos a altas temperaturas?  
Hierva y pasa de un estado líquido a uno gaseoso.
- IV. **EDV.** ¿Cómo se llama el periodo histórico donde hubo grandes contrastes en México; por un lado mejoró la situación económica e industrial y por otro, hubo mucha explotación laboral?  
Porfiriato.
- V. **Español.** ¿Cómo se le llama a la persona que posee conocimientos, basados en su experiencia, de los beneficios y las propiedades curativas de las plantas?  
Yerbero.





# PREGUNTÓMETRO

## CONVIVENCIA ESCOLAR 3º

**¿Cuál es una regla del salón? ¿Por qué es importante cumplirla?**



Levantar la mano cuando quiero hablar o participar. Es importante porque de esa manera se mejora la comunicación y todos podemos expresar nuestras ideas sin ser interrumpidos.

# PREGUNTÓMETRO 3º



## NIVEL

**I. Matemáticas.** Fernando irá al cine a la función de las 5:30 p.m., si hace 40 min. de su casa al cine, ¿a qué hora debe salir de su casa para llegar puntualmente?

A las 4:50 p.m.

**II. CN.** ¿De qué se alimentan los murciélagos?

Insectos, frutas, polen y néctar de flores, peces, y un porcentaje muy bajo, se alimenta de sangre de otros seres vivos.

**III. EDV.** ¿Qué nombre recibe la mezcla de dos o más culturas?

Mestizaje.

**IV. Español.** Son las palabras que modifican a los verbos y los adjetivos; señalan el tiempo, el lugar y el modo en que sucedieron los eventos narrados en un cuento.

Los adverbios.

**V. Matemáticas.** ¿Cuál objeto es más pesado: un plato de vidrio o uno de plástico? ¿Por qué?

El plato de vidrio porque el material es más pesado.





# PREGUNTÓMETRO

## CONVIVENCIA ESCOLAR 3º

Elena cree que Emiliano no es buena persona porque practica una religión diferente a la suya. ¿Consideras que la actitud de Elena es correcta? ¿Por qué?

No, Elena no debe juzgar a una persona basándose solamente en la religión que practica. Eso sería una forma de discriminación basada en prejuicios.

# PREGUNTÓMETRO 3º



## NIVEL

- I. Español.** ¿Qué encuentras en los materiales hemerográficos de una biblioteca?  
Periódicos y revistas.
- II. Matemáticas.** En la escuela de Ricardo, hay 20 alumnos en cada grupo, ¿cuántos alumnos hay en la escuela si se tienen 12 grupos?  
240 alumnos.
- III. CN.** ¿Cuáles de los siguientes materiales son insolubles en agua: **arena, jabón, aceite, alcohol, cera, sal**?  
Arena, aceite y cera.
- IV. EDV.** ¿Qué presidente mexicano duró en el mandato más de 30 años?  
Porfirio Díaz.
- V. Español.** ¿Qué elementos debe tener la receta para la elaboración de un remedio casero?  
Título, ingredientes, preparación, modo de empleo y dosis.





# PREGUNTÓMETRO

## CONVIVENCIA ESCOLAR 3°

**Cuando Roberto quiere algo y sus padres no se lo dan, él llora y grita. ¿Consideras que Roberto está manejando sus emociones adecuadamente? Justifica tu respuesta.**

No, en vez de portarse así debe aprender a controlar sus emociones y expresar su enojo de otra forma, por ejemplo, hablando con sus padres y explicándoles cómo se siente.

# PREGUNTÓMETRO 3º



## NIVEL

- I. Matemáticas.** Javier se duerme a las 21:00 horas, si se levantó a las 7:00 a.m. para ir a la escuela, ¿cuánto tiempo durmió?  
10 horas.
- II. CN.** ¿Cuál es la principal desventaja del plástico en su reintegración al medio ambiente?  
Que no es biodegradable.
- III. EDV.** Actividad económica que introdujeron los españoles en nuestro país, que consiste en la extracción de minerales.  
La minería.
- IV. Español.** ¿Qué nombre reciben las personas, animales u objetos animados que aparecen en los cuentos?  
Personajes.
- V. Matemáticas.** ¿Qué figura puedes formar utilizando solamente tres líneas rectas?  
Un triángulo.








# PREGUNTÓMETRO

## CONVIVENCIA ESCOLAR 3°

**Menciona una actividad para promover la equidad de género en la escuela.**



Distribuir las actividades de forma que tanto los niños como las niñas puedan participar en las tareas para mantener el orden y la limpieza en el salón, así como en las actividades recreativas.

# PREGUNTÓMETRO 3°



## NIVEL

- I. **CN.** ¿Qué se recomienda para prevenir lesiones en el aparato locomotor antes de realizar una actividad física?  
Calentar los músculos.
- II. **EDV.** Fenómeno climático que consiste en el recubrimiento del suelo de hielo debido al descenso extremo de la temperatura.  
Glaciación.
- III. **Español.** ¿Para qué sirven las palabras como **mientras, después, primero, finalmente**, en una autobiografía?  
Para organizar los sucesos que se narran en el orden en que sucedieron.
- IV. **Matemáticas.** ¿Cómo se llama el ángulo que mide  $135^\circ$ ?  
Ángulo obtuso.
- V. **CN.** ¿A qué grupo de alimentos pertenecen los frijoles y las habas?  
Al de leguminosas.





# PREGUNTÓMETRO

## CONVIVENCIA ESCOLAR 3º

**¿Por qué el diálogo es la mejor manera de resolver conflictos?**



Porque mediante éste es posible expresar nuestras emociones y sentimientos de manera clara y ordenada para que el otro pueda entender mejor nuestra situación y juntos logremos llegar a un acuerdo que beneficie a ambos sin lastimarnos.

# PREGUNTÓMETRO 3º



## NIVEL

- I. **EDV.** Se llama así a las condiciones atmosféricas que regularmente tiene una región.  
Clima.
- II. **Español.** Cuando se emplean las palabras de manera sencilla, precisa y clara, ¿se usa el sentido literal o el sentido figurado?  
El sentido literal.
- III. **Matemáticas.** ¿Qué sucede con los números de una sucesión descendente?  
Van disminuyendo.
- IV. **CN.** ¿Cuánto tiempo tarda la Luna en dar una vuelta completa a la Tierra?  
29 días y 12 horas.
- V. **EDV.** ¿Qué acciones podemos realizar para disminuir los problemas ambientales?  
Uso racional de recursos naturales, reciclaje de la basura y reforestación.





# PREGUNTÓMETRO

## CONVIVENCIA ESCOLAR 3º

**A Susana le encanta jugar con la pelota azul y no deja que nadie más la use. Cuando alguien intenta hacerlo ella llora. ¿Consideras que su conducta es adecuada? ¿Cómo puede resolverse este conflicto?**

No es adecuada. Susana debe aprender a compartir y a manejar sus emociones. Pueden establecerse turnos para que todos puedan jugar con la pelota.

# PREGUNTÓMETRO 3º



## NIVEL

- I. Español.** Sirven para registrar y consultar nombres, direcciones y teléfonos de personas o servicios.  
Los directorios.
- II. Matemáticas.** Una fábrica de zapatos produce 100 pares de zapatos por hora, ¿cuántos pares de zapatos produce en 8 horas?  
800 pares de zapatos.
- III. CN.** Menciona dos ejemplos de sustancias, mezclas u objetos que se encuentren en estado gaseoso.  
El aire y las nubes.
- IV. EDV.** ¿Qué forma de gobierno proponía el partido liberal al que pertenecía Benito Juárez?  
La república.
- V. Español.** ¿En qué forma se utilizan los verbos para indicar las acciones que deben seguirse al preparar un remedio casero?  
En infinitivo.

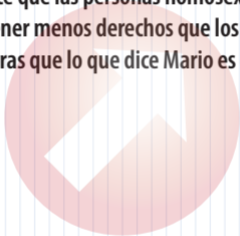




# PREGUNTÓMETRO

## CONVIVENCIA ESCOLAR 3º

**Mario dice que las personas homosexuales deben tener menos derechos que los demás. ¿Consideras que lo que dice Mario es correcto?**



No, la Constitución Política establece que todas las personas gozarán de los derechos humanos y éstos no dependen de las preferencias sexuales (Art. 1º).

# PREGUNTÓMETRO 3º



## NIVEL

- I. **Matemáticas.** ¿Cuál es el número que al multiplicarlo por 6 da como resultado 480?  
80
- II. **CN.** ¿Cómo se les llama a las estructuras de las plantas encargadas del intercambio de gases?  
Estomas.
- III. **EDV.** ¿Quién descubrió el continente americano, al equivocarse de ruta para llegar a las Indias?  
Cristóbal Colón.
- IV. **Español.** ¿Cómo se llaman los lugares en los que suceden las acciones narradas en los cuentos?  
Escenarios.
- V. **Matemáticas.** ¿Cuántas líneas rectas se necesitan para formar un trapecio?  
Cuatro líneas rectas.







# PREGUNTÓMETRO

## CONVIVENCIA ESCOLAR 3º

**En casa de Yolanda es su mamá quien siempre hace el quehacer de la casa y la comida, mientras su papá y sus hermanos ven la televisión. ¿Cuál sería una manera justa de distribuir las tareas del hogar?**

Que se asignaran tareas de forma equitativa para que todos los miembros de la familia ayuden en algo y la mamá no tenga que hacer todo sola.

# PREGUNTÓMETRO 3º



## NIVEL

- I. CN.** Sustancia cuyo consumo ayuda a mantener los huesos sanos.  
Calcio.
- II. EDV.** Los nómadas se movían en grupos de personas llamados:  
Tribus.
- III. Español.** ¿En qué sección del periódico encontrarías una noticia sobre el campeonato de fútbol?  
En la sección de deportes.
- IV. Matemáticas.** ¿Cuál es la operación matemática que te permite calcular las veces que se encuentra contenida una cantidad en otra?  
La división.
- V. CN.** ¿Cuál de los siguientes alimentos no pertenece al Plato del Bien Comer: **papas, pasta, fresas, frituras, pan?**  
Frituras.

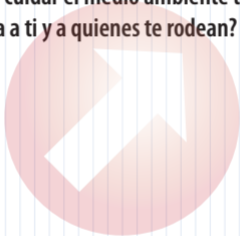




# PREGUNTÓMETRO

## CONVIVENCIA ESCOLAR 3º

**¿Por qué cuidar el medio ambiente te beneficia a ti y a quienes te rodean?**



Porque todos formamos parte de este planeta y las acciones que hagamos repercuten en nuestra salud y en nuestra vida.

# PREGUNTÓMETRO 3°



## NIVEL

- I. EDV.** Menciona algunas características de las zonas urbanas.

Tienen más de 2 500 habitantes, cuentan con mayor número de servicios, las actividades económicas principalmente radican en el comercio e industrias.

- II. Español.** ¿Cómo se llama el recurso literario que se usa en los poemas, que consiste en comparar una cosa con otra de acuerdo con sus semejanzas?

Símil.

- III. Matemáticas.** ¿Qué ocurre con una sucesión si su constante es un número par e inicia con el número 5?

Se tendrán siempre números impares.

- IV. CN.** ¿Cuál es la unidad para medir la intensidad del sonido?

El decibel.

- V. EDV.** ¿Cuáles son algunos ejemplos de desastres naturales frecuentes?

Sequía, deslave, tornado, terremoto, huracán, inundación, incendio.





# PREGUNTÓMETRO

## CONVIVENCIA ESCOLAR 3º

**¿Cuáles son tres características de una persona responsable?**



Cumple con sus obligaciones. Termina sus actividades a tiempo. Cumple las promesas que hace.

# PREGUNTÓMETRO 3°



## NIVEL

- I. Español.** ¿Cómo se llaman los directorios personales?  
Agendas.
- II. Matemáticas.** ¿Con cuál número multiplicado por 20 se obtiene 400?  
20
- III. CN.** ¿Qué sucede con la mantequilla al ser sometida a altas temperaturas?  
Se derrite y pasa de estado sólido a líquido.
- IV. EDV.** Este medio de transporte permitió el desarrollo de actividades económicas durante el Porfiriato.  
El ferrocarril.
- V. Español.** ¿Qué terminaciones tienen los verbos en infinitivo?  
-ar, -er, -ir.






# PREGUNTÓMETRO

## CONVIVENCIA ESCOLAR 3º

**¿Por qué es importante participar en las actividades escolares y en la toma de decisiones?**



Porque así podemos contribuir a mejorar las condiciones de la escuela y si todos participamos será más fácil lograr cambios.

# PREGUNTÓMETRO 3º



## NIVEL

- I. Matemáticas.** Daniela ahorra \$20 cada semana  
¿Qué operación matemática se debe utilizar para saber cuánto dinero tendrá en 15 semanas?  
Una multiplicación.
- II. CN.** ¿Cuál es el tipo de alimentación de los hongos?  
Heterótrofa.
- III. EDV.** ¿Cuál de los siguientes cultivos fue introducido por los españoles al continente americano: nopal, maíz o trigo?  
Trigo.
- IV. Español.** ¿Qué es una encuesta?  
Es un instrumento de investigación que permite recopilar datos de una población dada mediante el uso de cuestionarios diseñados previamente, con el objetivo de conocer sus opiniones sobre algún tema o algunas características específicas sobre ellos.
- V. Matemáticas.** Erick tiene cajas del mismo tamaño hechas de los siguientes materiales: plástico, madera y metal, ¿cuál es la más ligera?  
La caja de plástico.







# PREGUNTÓMETRO

## CONVIVENCIA ESCOLAR 3º

**Si la fila para comprar en la tiendita de la escuela es muy larga, ¿debes formarte al final de la fila o meterte entre los que ya van a llegar?**

Debo formarme al final de la fila porque es una regla que todos debemos respetar. Así doy ejemplo de civismo y respeto a las personas que ya estaban formadas.

# PREGUNTÓMETRO 3º



## NIVEL

- I. Español.** ¿Cómo se organiza la información de un directorio?  
En orden alfabético.
- II. Matemáticas.** ¿Qué información debe aparecer en una gráfica de barras?  
Las unidades u objetos que se miden y la frecuencia con la que aparece cada uno.
- III. CN.** ¿Cuál es la temperatura corporal promedio de una persona saludable?  
Entre 36 y 37° C.
- IV. EDV.** ¿Qué medio de comunicación llegó a México durante el Porfiriato?  
El teléfono.
- V. Español.** ¿Por qué las recetas son textos instructivos?  
Porque indican de manera breve los pasos que deben seguirse para preparar algo.





# PREGUNTÓMETRO

## CONVIVENCIA ESCOLAR 3°

**Si tienes que trabajar en equipo y uno de los compañeros no comprende lo que debe hacer, ¿es justo enojarse y reclamarle? ¿Por qué?**

No es justo. Tampoco es justo que alguien no cumpla con su trabajo por gusto. Pero en este caso, el compañero necesita ayuda. Si puedo, lo ayudo. Ayudar a los compañeros siempre trae beneficios adicionales como nuevos amigos y buenas calificaciones.

# PREGUNTÓMETRO 3°



## NIVEL

**I. Matemáticas.** Si compras un paquete de galletas de \$12 y pagas con un billete de 50 pesos, ¿cuánto dinero te darán de cambio?

38 pesos.

**II. CN.** Por su alimentación, ¿cómo se les llama a los seres humanos?

Omnívoros.

**III. EDV.** ¿Qué nombre recibían los españoles nacidos en la Nueva España?

Criollos.

**IV. Español.** ¿Qué tipos de preguntas puedes incluir en el cuestionario de una encuesta?

Abiertas y cerradas.

**V. Matemáticas.** ¿Cuáles multiplicaciones dan como resultado 28?

$1 \times 28$ ,  $2 \times 14$  y  $7 \times 4$






# PREGUNTÓMETRO

## CONVIVENCIA ESCOLAR 3º

**Si recibes ayuda de tus maestros o compañeros para resolver tus dudas, ¿qué debes hacer?**



Recordar que la gratitud es más que sólo dar las gracias en el momento en que se recibe la ayuda. Se puede demostrar gratitud siendo recíproco, con un buen comportamiento y cuidando la amistad.

# PREGUNTÓMETRO 3º



## NIVEL

- I. CN.** ¿Qué componentes del aparato circulatorio transportan la sangre del corazón al resto del cuerpo?  
Las arterias.
- II. EDV.** ¿Dónde se localizaba la región de Aridoamérica?  
Al norte de México.
- III. Español.** ¿Qué es una paráfrasis?  
Decir con palabras propias lo que dijo otra persona sin modificar su sentido.
- IV. Matemáticas.** ¿Cuál es la multiplicación equivalente a  $9 + 9 + 9 = 27$ ?  
 $9 \times 3 = 27$
- V. CN.** ¿Qué componentes, que hacen funcionar varios aparatos electrónicos, no pueden desecharse libremente al medio ambiente?  
Las pilas.





# PREGUNTÓMETRO

## CONVIVENCIA ESCOLAR 3º

**Si un grupo de alumnos molesta a un niño que no puede defenderse, ¿qué debes hacer?**



Avisar a los maestros para que ellos detengan el conflicto. Cuando no estén los maestros, puedo decirles a los agresores que nos sentimos mal cuando nos molestan. Lo que nunca debo hacer es agredir a los demás.

# PREGUNTÓMETRO 3º



## NIVEL

- I. **EDV.** La pesca y la ganadería son actividades que se realizan con mayor frecuencia en zonas:  
Rurales.
- II. **Español.** ¿Qué son las onomatopeyas?  
Son las representaciones escritas de los sonidos naturales de algunos animales o acciones.
- III. **Matemáticas.** Esmeralda quiere repartir \$850 entre sus 5 ahijados, ¿cuánto le corresponderá a cada ahijado?  
170 pesos.
- IV. **CN.** Son los puntos en los que se concentra la mayor capacidad de atracción de los imanes.  
Los polos.
- V. **EDV.** Ocurre cuando el ser humano modifica su entorno de manera acelerada, sin que la naturaleza tenga tiempo de regenerarse.  
Desequilibrio ambiental.







# PREGUNTÓMETRO

## CONVIVENCIA ESCOLAR 3º

**¿Qué debes hacer cuando tus calificaciones han bajado porque tienes dificultades para aprender un tema?**

Darme cuenta de que necesito ayuda y pedirla.  
Decirle a mi maestro y también a mis familiares para que sepan que tengo problemas para aprender.  
También los compañeros me podrían ayudar.

# PREGUNTÓMETRO 3º



## NIVEL

- I. Español.** ¿Cuál es la abreviatura de Avenida?  
Av.
- II. Matemáticas.** En una gráfica de barras, ¿qué muestra la barra más alta?  
El dato que aparece con mayor frecuencia.
- III. CN.** ¿Qué sucede cuando se enfría la lava de un volcán?  
Se convierte en roca.
- IV. EDV.** Este género musical se utilizó durante la Revolución para difundir las hazañas y noticias más relevantes.  
El corrido.
- V. Español.** ¿Por qué decimos que los verbos en infinitivo no están conjugados?  
Porque no indican la persona que realiza la acción, ni el tiempo en el que es realizada.

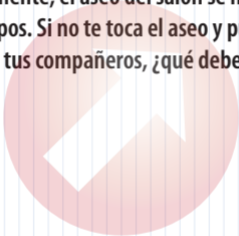




# PREGUNTÓMETRO

## CONVIVENCIA ESCOLAR 3º

**Generalmente, el aseo del salón se hace por equipos. Si no te toca el aseo y puedes ayudar a tus compañeros, ¿qué debes hacer?**



Ayudar a los demás para que terminen más rápido. La solidaridad se practica ayudando y colaborando con los demás cuando lo necesitan.

# PREGUNTÓMETRO 3º



## NIVEL

**I. Matemáticas.** ¿Cuál es el orden a seguir al leer una cantidad?

Iniciar de izquierda a derecha.

**II. CN.** ¿A quién pone en riesgo la alteración del medio ambiente?

A todos los seres vivos del planeta.

**III. EDV.** Es el idioma más extendido en México y uno de los más importantes legados del Virreinato.

El español.

**IV. Español.** ¿Qué estructura debe tener el informe de una encuesta?

Debe dividirse en tres partes: introducción, desarrollo y conclusiones.

**V. Matemáticas.** ¿Cuál es el residuo de la división  $15 \div 4 = ?$

3






# PREGUNTÓMETRO

## CONVIVENCIA ESCOLAR 3º

**¿Qué debes hacer si alguien de tu salón te hace sentir mal y no se da cuenta?**



Hablar claro con esa persona para que sepa cómo me siento y deje de hacerlo. La comunicación eficiente es la base de la convivencia; los malos entendidos y los problemas entre compañeros muchas veces se dan porque hay mala comunicación.

# PREGUNTÓMETRO 3º



## NIVEL

- I. CN.** ¿Cómo llegan los nutrientes de la digestión a todo el cuerpo para su aprovechamiento?  
A través del torrente sanguíneo.
- II. EDV.** ¿Cómo se llamaba a las personas que se trasladaban de un lugar a otro para cazar y recolectar frutos?  
Nómadas.
- III. Español.** ¿Cuáles son las seis preguntas que debe responder una noticia?  
¿Qué?, ¿quién?, ¿cómo?, ¿dónde?, ¿cuándo? y ¿por qué?
- IV. Matemáticas.** ¿Cuál es la multiplicación equivalente a  $8 + 8 + 8 = 24$ ?  
 $3 \times 8 = 24$
- V. CN.** Son los años que tarda en desintegrarse un vaso desechable de polipropileno.  
Mil años.





# PREGUNTÓMETRO

## CONVIVENCIA ESCOLAR 3º

**Si quieres hacer amigos y uno de tus compañeros te dice que será tu amigo si dices una mentira que afecte a otro compañero, ¿debes aceptar su amistad? Justifica tu respuesta.**

No. La amistad es un valor que no acepta condiciones, por lo tanto, es mejor tener pocos amigos que duren para siempre.

# PREGUNTÓMETRO 3°



## NIVEL

- I. EDV.** ¿Cómo se llaman los productos que dan identidad a un pueblo porque se elaboran con materias primas y técnicas de la región?  
Artesanías.
- II. Español.** ¿Qué tiempo verbal se emplea para contar algo que ya pasó?  
El pasado: pretérito simple o imperfecto.
- III. Matemáticas.** El grupo de 3° B está conformado por 28 alumnos, si el maestro pide que formen equipos de 7 alumnos, ¿cuántos equipos se pueden formar?  
4 equipos.
- IV. CN.** ¿Qué polos se repelen entre sí?  
Positivo – positivo, negativo – negativo.
- V. EDV.** Hace un siglo se obtenía de pozos pero actualmente es un servicio que se distribuye a través de tuberías hasta los hogares.  
Agua potable.







# PREGUNTÓMETRO

## CONVIVENCIA ESCOLAR 3º

Si en la escuela los niños se burlan de un compañero porque sus costumbres y su vestimenta son diferentes a las de los demás y te piden que tú también lo hagas, ¿te burlarías de él? Justifica tu respuesta.

Definitivamente evitaría burlarme. Pensaría cómo debe sentirse él y que no me gustaría sentir lo mismo. Es decir, sería empático. Siendo empático con los demás doy y recibo un buen trato.

# PREGUNTÓMETRO 3º



## NIVEL

- I. **Español.** Ordena alfabéticamente los siguientes apellidos: **Escamilla, Díaz, Arteaga.**  
Arteaga, Díaz, Escamilla.
- II. **Matemáticas.** ¿Cuál es el resultado de la operación:  
 $25 + 15 - 35$ ?  
5
- III. **CN.** ¿Qué es la hipotermia?  
Es la disminución de la temperatura corporal.
- IV. **EDV.** Personaje histórico que se enfrentó al gobierno de Porfirio Díaz, empleando el lema "Sufragio efectivo, no reelección"  
Francisco I. Madero.
- V. **Español.** ¿Cuál es la función de las ilustraciones en la receta de un remedio casero?  
Ayudar a que sea más fácil comprender los pasos que deben seguirse.





# PREGUNTÓMETRO

## CONVIVENCIA ESCOLAR 3º

**Estás en casa y aún no haces la tarea cuando tus amigos te invitan a jugar. ¿Qué debes hacer para cumplir con tus deberes y no perderte la actividad con tus amigos?**

Como tengo claro que la prioridad es la tarea, la haría cuanto antes y estaría listo para cuando mis amigos me inviten a jugar. El orden y la disciplina son la clave. Incluso me puede sobrar tiempo para divertirme en otras cosas.

# PREGUNTÓMETRO 3º



## NIVEL

- I. Matemáticas.** ¿A cuántos segundos equivalen tres minutos?  
A 180 segundos.
- II. CN.** ¿Cuál es la práctica de las tres erres que corresponde a llevar un uso más medido de los recursos que utilizamos?  
Reducir.
- III. EDV.** ¿Cómo se llamaba a los hijos de español e indígena?  
Mestizo.
- IV. Español.** Menciona tres nexos que podrías utilizar en el informe de una encuesta para explicar, comparar o ejemplificar la información.  
Porque, en cambio, por ejemplo.
- V. Matemáticas.** ¿Cuál es la cantidad mínima de floreros que se necesitan para colocar equitativamente 15 rosas?  
3 floreros.

